

第2章 连通和遍历

程龚

南京大学 计算机科学与技术系

gcheng@nju.edu.cn

<http://ws.nju.edu.cn/~gcheng>



本章内容

- 第2.1节 连通和DFS
- 第2.2节 割点和割边
- 第2.3节 距离和BFS



本章内容

- 第2.1节 连通和DFS
 - 第2.1.1节 理论
 - 第2.1.2节 算法
- 第2.2节 割点和割边
- 第2.3节 距离和BFS



路线、起点、终点、长度、平凡路线

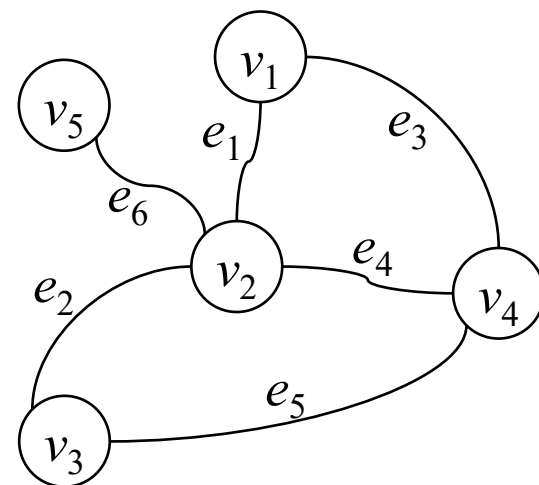
- **路线**是以顶点开始、顶点和边交替出现、以顶点结束的序列 $v_0, e_1, v_1, \dots, e_l, v_l$, 其中每条边 e_i 的两个端点恰为顶点 v_{i-1} 和 v_i , 称作一条 v_0 - v_l 路线

起点: 顶点 v_0

终点: 顶点 v_l

长度: 非负整数 l

- 例如: $v_1, e_1, v_2, e_2, v_3, e_2, v_2$
起点 v_1 , 终点 v_2 , 长度为3



路线、起点、终点、长度、平凡路线

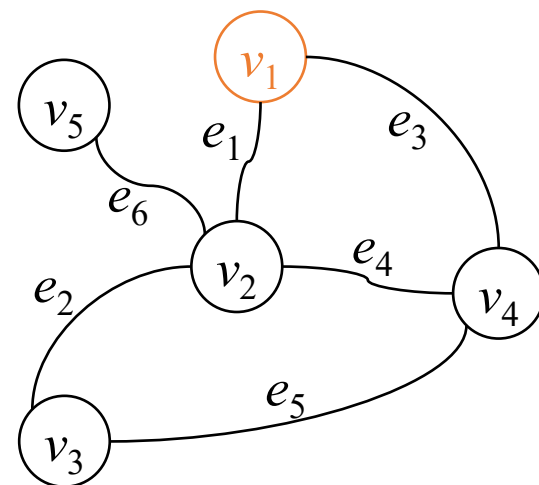
- **路线**是以顶点开始、顶点和边交替出现、以顶点结束的序列 $v_0, e_1, v_1, \dots, e_l, v_l$, 其中每条边 e_i 的两个端点恰为顶点 v_{i-1} 和 v_i , 称作一条 v_0 - v_l 路线

起点: 顶点 v_0

终点: 顶点 v_l

长度: 非负整数 l

- 例如: $v_1, e_1, v_2, e_2, v_3, e_2, v_2$
起点 v_1 , 终点 v_2 , 长度为3



路线、起点、终点、长度、平凡路线

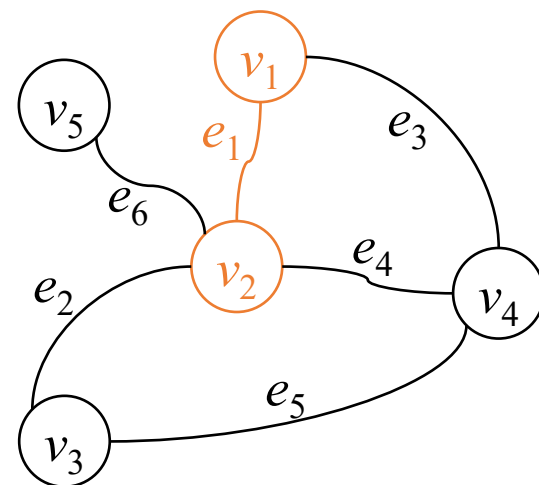
- **路线**是以顶点开始、顶点和边交替出现、以顶点结束的序列 $v_0, e_1, v_1, \dots, e_l, v_l$, 其中每条边 e_i 的两个端点恰为顶点 v_{i-1} 和 v_i , 称作一条 v_0 - v_l 路线

起点: 顶点 v_0

终点: 顶点 v_l

长度: 非负整数 l

- 例如: $v_1, e_1, v_2, e_2, v_3, e_2, v_2$
起点 v_1 , 终点 v_2 , 长度为3



路线、起点、终点、长度、平凡路线

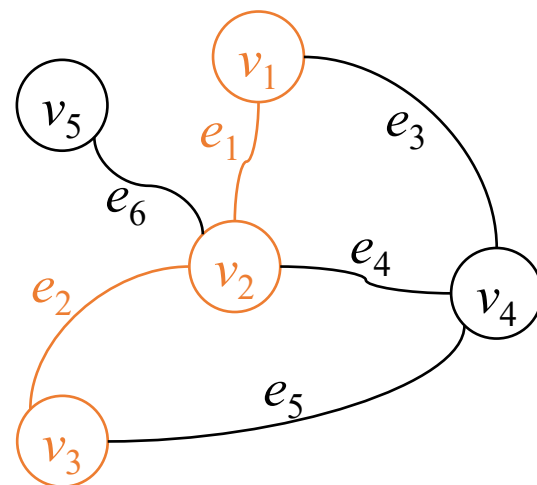
- **路线**是以顶点开始、顶点和边交替出现、以顶点结束的序列 $v_0, e_1, v_1, \dots, e_l, v_l$, 其中每条边 e_i 的两个端点恰为顶点 v_{i-1} 和 v_i , 称作一条 v_0 - v_l 路线

起点: 顶点 v_0

终点: 顶点 v_l

长度: 非负整数 l

- 例如: $v_1, e_1, v_2, e_2, v_3, e_2, v_2$
起点 v_1 , 终点 v_2 , 长度为3



路线、起点、终点、长度、平凡路线

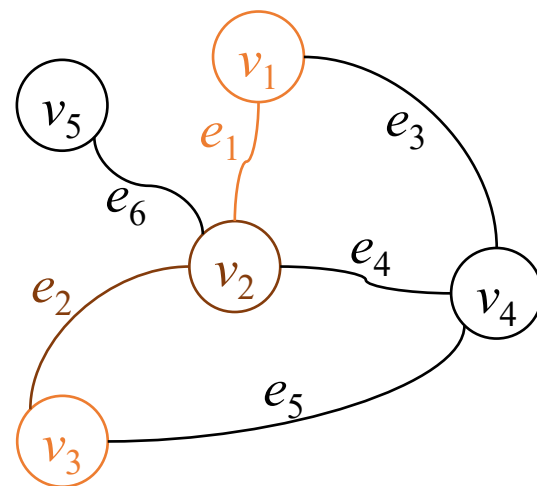
- **路线**是以顶点开始、顶点和边交替出现、以顶点结束的序列 $v_0, e_1, v_1, \dots, e_l, v_l$, 其中每条边 e_i 的两个端点恰为顶点 v_{i-1} 和 v_i , 称作一条 v_0 - v_l 路线

起点: 顶点 v_0

终点: 顶点 v_l

长度: 非负整数 l

- 例如: $v_1, e_1, v_2, e_2, v_3, e_2, v_2$
起点 v_1 , 终点 v_2 , 长度为3



路线、起点、终点、长度、平凡路线

- 路线是以顶点开始、顶点和边交替出现、以顶点结束的序列 $v_0, e_1, v_1, \dots, e_l, v_l$, 其中每条边 e_i 的两个端点恰为顶点 v_{i-1} 和 v_i , 称作一条 v_0 - v_l 路线

起点: 顶点 v_0

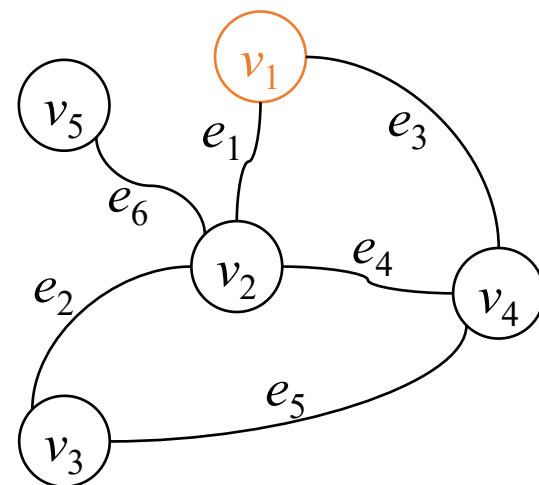
终点: 顶点 v_l

长度: 非负整数 l

- 例如: $v_1, e_1, v_2, e_2, v_3, e_2, v_2$
起点 v_1 , 终点 v_2 , 长度为 3

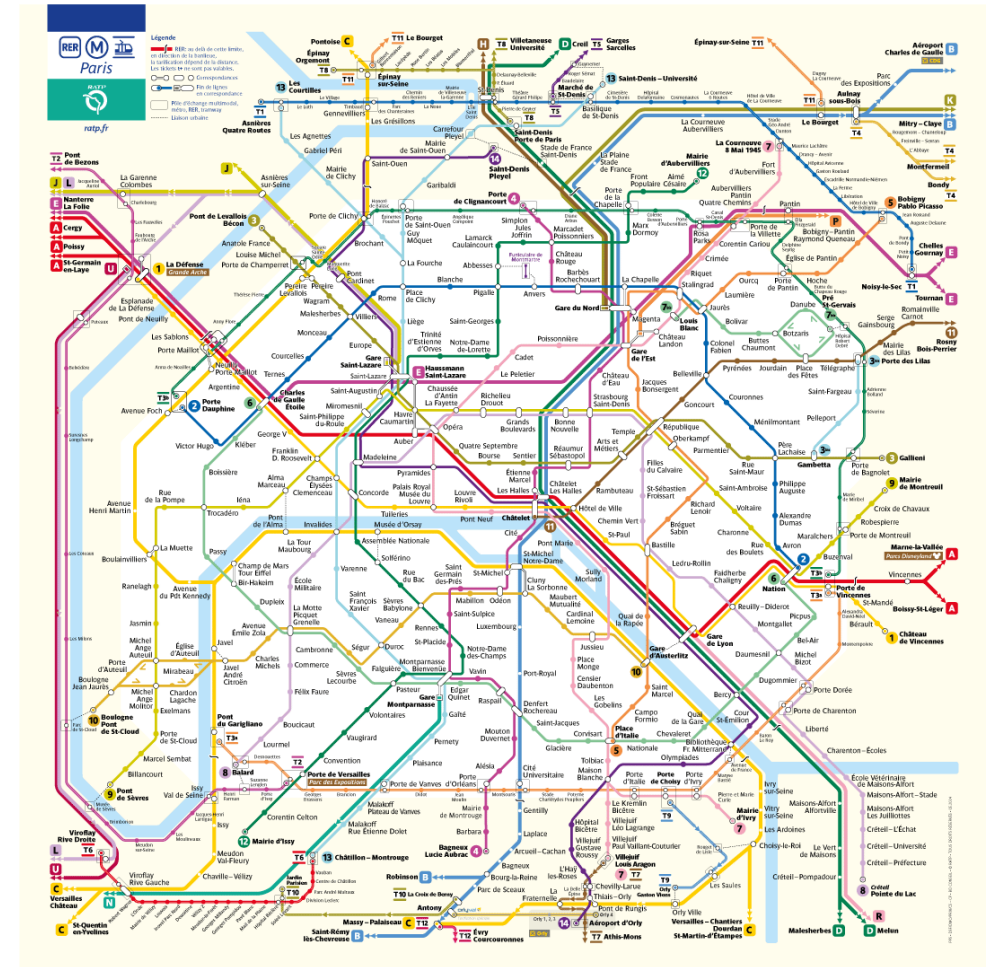
- 长度为 0 的路线称作**平凡路线**

- 例如: v_1



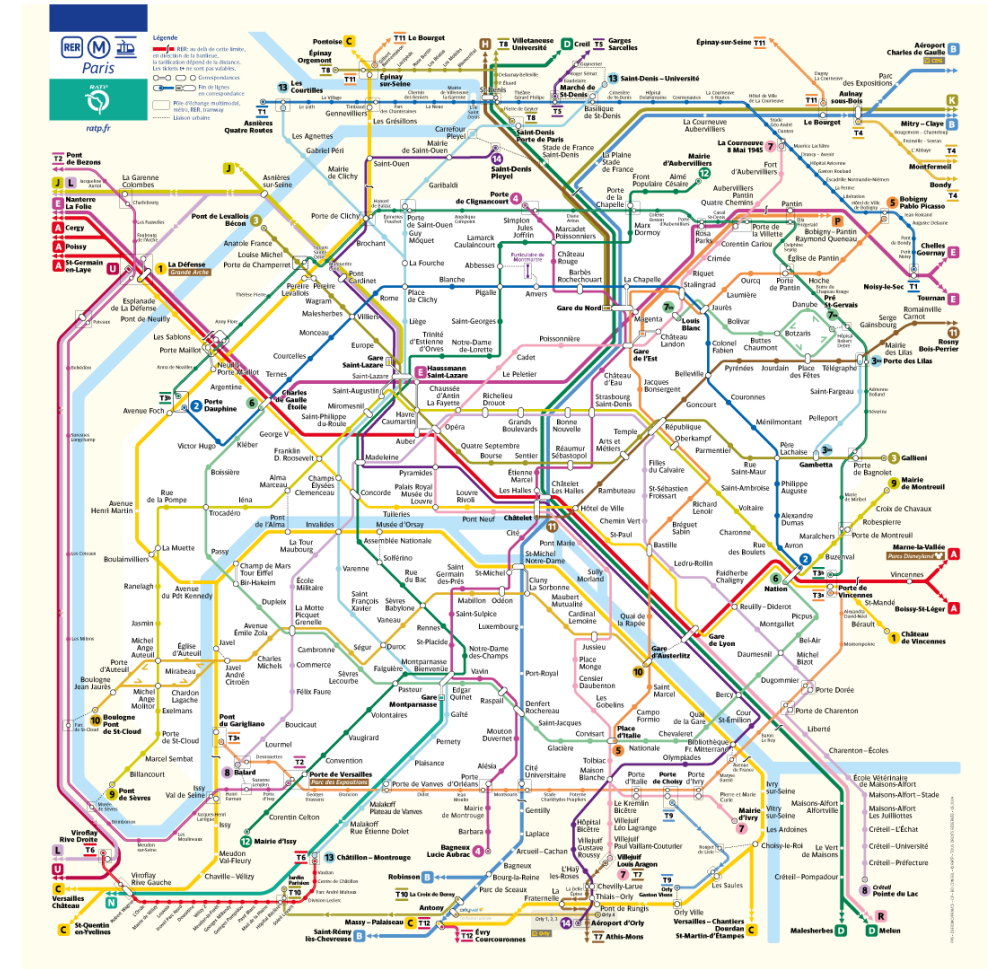
路线、起点、终点、长度、平凡路线

- 从一个站点到另一个站点的路线



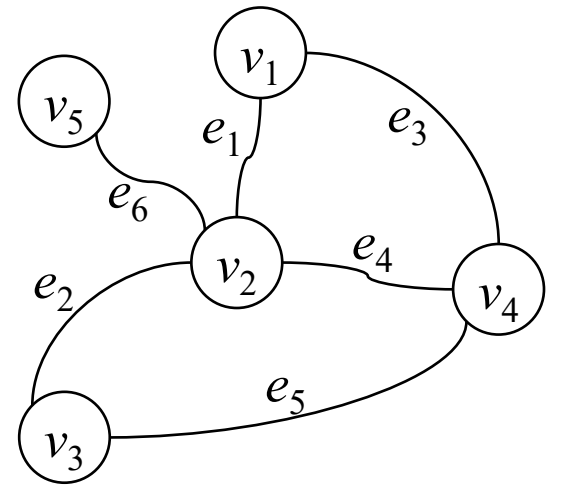
路线、起点、终点、长度、平凡路线

- 从一个站点到另一个站点的路线
- 通常希望路线“不重复”



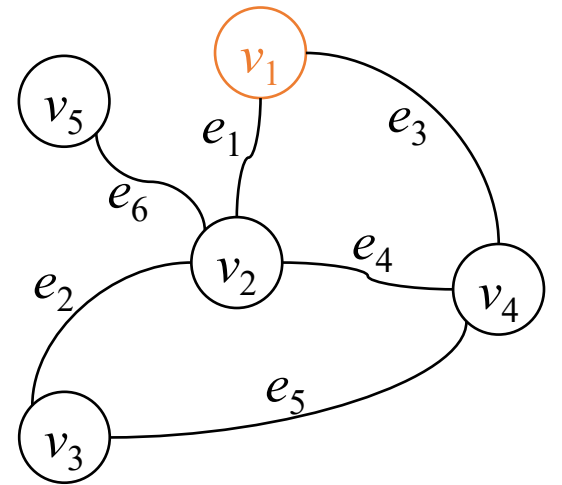
迹、路、内顶点

- 边在序列中不重复出现的路线称作**踪迹**，简称**迹**
 - 例如： $v_1, e_1, v_2, e_2, v_3, e_5, v_4, e_4, v_2, e_6, v_5$



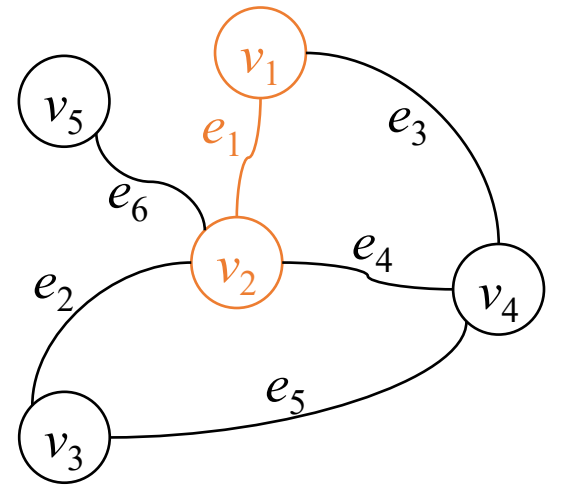
迹、路、内顶点

- 边在序列中不重复出现的路线称作**踪迹**，简称**迹**
 - 例如： $v_1, e_1, v_2, e_2, v_3, e_5, v_4, e_4, v_2, e_6, v_5$



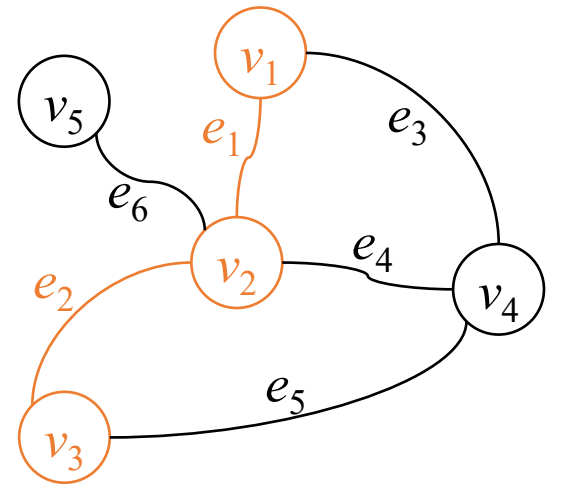
迹、路、内顶点

- 边在序列中不重复出现的路线称作**踪迹**，简称**迹**
 - 例如： $v_1, e_1, v_2, e_2, v_3, e_5, v_4, e_4, v_2, e_6, v_5$



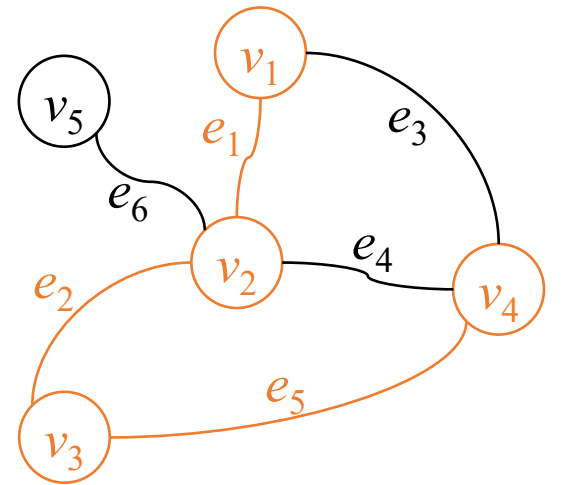
迹、路、内顶点

- 边在序列中不重复出现的路线称作**踪迹**，简称**迹**
 - 例如： $v_1, e_1, v_2, e_2, v_3, e_5, v_4, e_4, v_2, e_6, v_5$



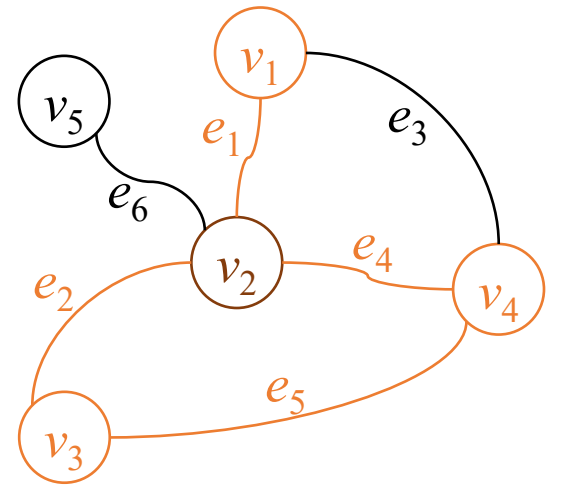
迹、路、内顶点

- 边在序列中不重复出现的路线称作**踪迹**，简称**迹**
 - 例如： $v_1, e_1, v_2, e_2, v_3, e_5, v_4, e_4, v_2, e_6, v_5$



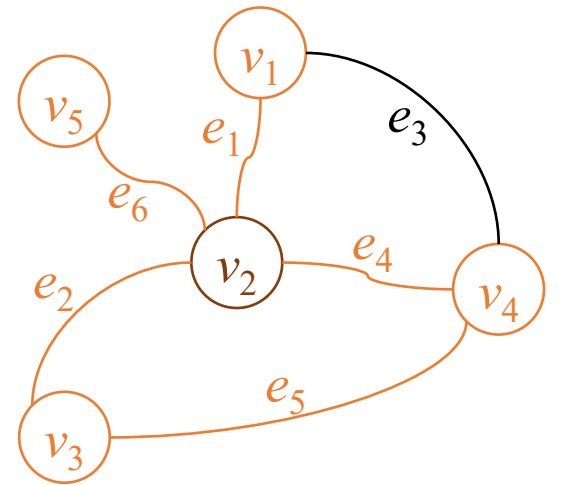
迹、路、内顶点

- 边在序列中不重复出现的路线称作**踪迹**，简称**迹**
 - 例如： $v_1, e_1, v_2, e_2, v_3, e_5, v_4, e_4, v_2, e_6, v_5$



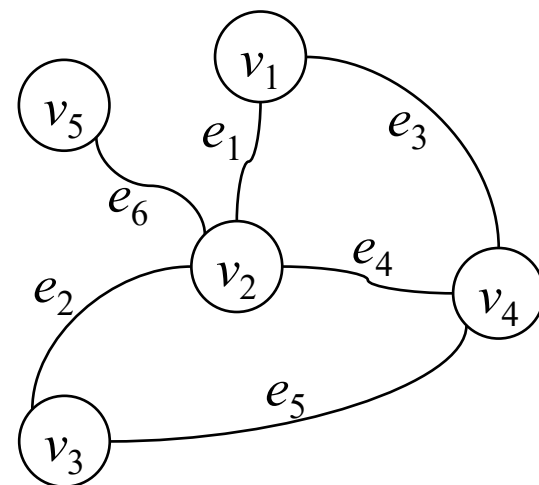
迹、路、内顶点

- 边在序列中不重复出现的路线称作**踪迹**，简称**迹**
 - 例如： $v_1, e_1, v_2, e_2, v_3, e_5, v_4, e_4, v_2, e_6, v_5$



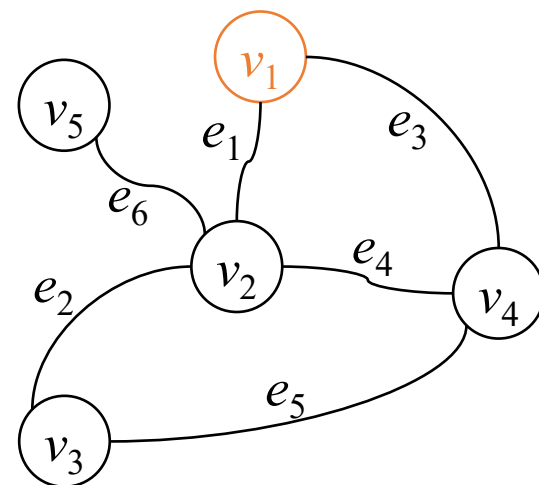
迹、路、内顶点

- 边在序列中不重复出现的路线称作**踪迹**，简称**迹**
 - 例如： $v_1, e_1, v_2, e_2, v_3, e_5, v_4, e_4, v_2, e_6, v_5$
- 顶点在序列中不重复出现的迹称作**路径**，简称**路**
路中除起点和终点外的其它顶点称作**内顶点**
 - 例如： $v_1, e_1, v_2, e_2, v_3, e_5, v_4$
内顶点包括 v_2 和 v_3



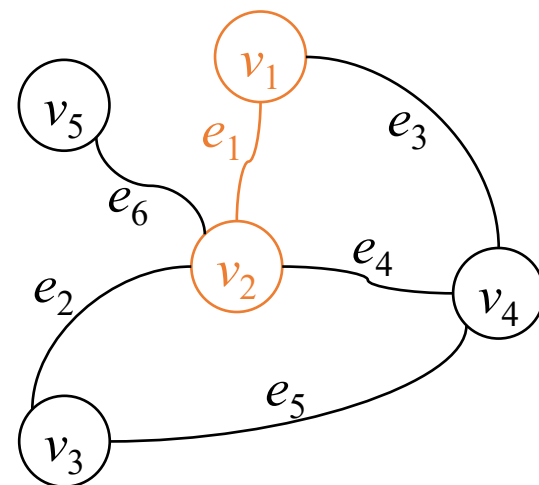
迹、路、内顶点

- 边在序列中不重复出现的路线称作**踪迹**，简称**迹**
 - 例如： $v_1, e_1, v_2, e_2, v_3, e_5, v_4, e_4, v_2, e_6, v_5$
- 顶点在序列中不重复出现的迹称作**路径**，简称**路**
路中除起点和终点外的其它顶点称作**内顶点**
 - 例如： $v_1, e_1, v_2, e_2, v_3, e_5, v_4$
内顶点包括 v_2 和 v_3



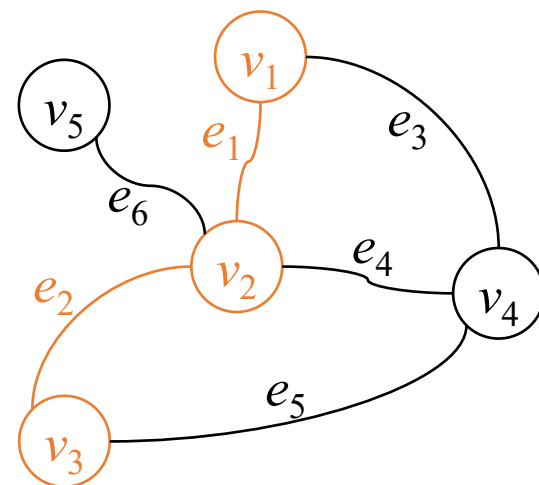
迹、路、内顶点

- 边在序列中不重复出现的路线称作**踪迹**，简称**迹**
 - 例如： $v_1, e_1, v_2, e_2, v_3, e_5, v_4, e_4, v_2, e_6, v_5$
- 顶点在序列中不重复出现的迹称作**路径**，简称**路**
路中除起点和终点外的其它顶点称作**内顶点**
 - 例如： $v_1, e_1, v_2, e_2, v_3, e_5, v_4$
内顶点包括 v_2 和 v_3



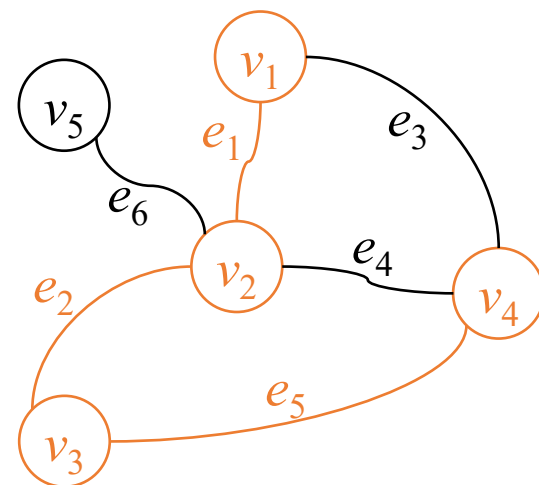
迹、路、内顶点

- 边在序列中不重复出现的路线称作**踪迹**，简称**迹**
 - 例如： $v_1, e_1, v_2, e_2, v_3, e_5, v_4, e_4, v_2, e_6, v_5$
- 顶点在序列中不重复出现的迹称作**路径**，简称**路**
路中除起点和终点外的其它顶点称作**内顶点**
 - 例如： $v_1, e_1, v_2, e_2, v_3, e_5, v_4$
内顶点包括 v_2 和 v_3



迹、路、内顶点

- 边在序列中不重复出现的路线称作**踪迹**，简称**迹**
 - 例如： $v_1, e_1, v_2, e_2, v_3, e_5, v_4, e_4, v_2, e_6, v_5$
- 顶点在序列中不重复出现的迹称作**路径**，简称**路**
路中除起点和终点外的其它顶点称作**内顶点**
 - 例如： $v_1, e_1, v_2, e_2, v_3, e_5, v_4$
内顶点包括 v_2 和 v_3



迹、路、内顶点

- 边在序列中不重复出现的路线称作踪迹，简称迹

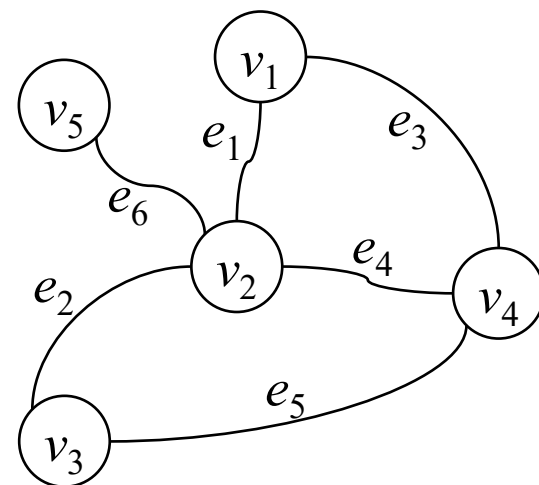
- 例如： $v_1, e_1, v_2, e_2, v_3, e_5, v_4, e_4, v_2, e_6, v_5$

- 顶点在序列中不重复出现的迹称作路径，简称路
路中除起点和终点外的其它顶点称作内顶点

- 例如： $v_1, e_1, v_2, e_2, v_3, e_5, v_4$
内顶点包括 v_2 和 v_3

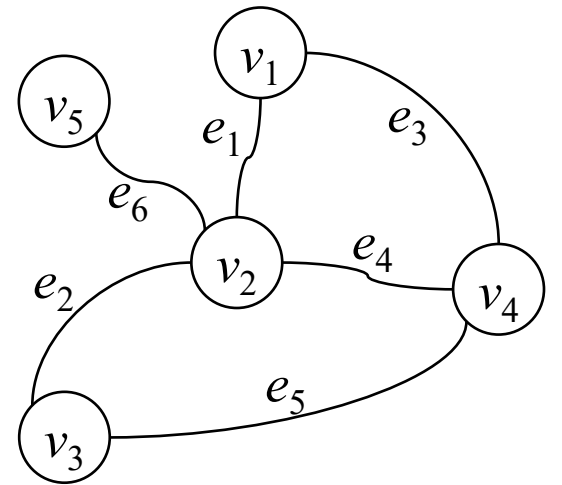
- 在不含重边的简单图中，以两个特定顶点为端点的边是唯一的，因此，路线的序列表示可以省略边。

- 例如： $v_1, e_1, v_2, e_2, v_3, e_2, v_2$ 可简记作 v_1, v_2, v_3, v_2



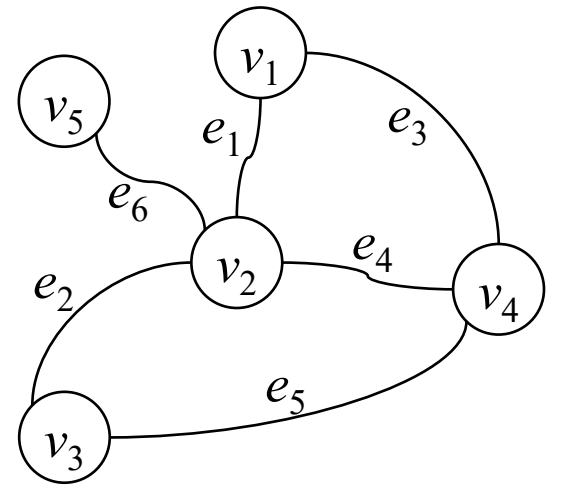
思考题2.1

- 若图中存在 u - v 路线，则一定存在 u - v 迹吗？



思考题2.1

- 若图中存在 u - v 路线，则一定存在 u - v 迹吗？
 - $v_3, e_2, v_2, e_4, v_4, e_3, v_1, e_1, v_2, e_4, v_4, e_4, v_2$

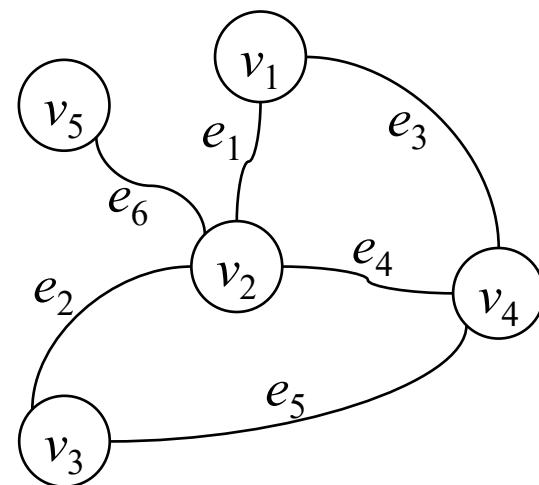


思考题2.1

■ 若图中存在 u - v 路线，则一定存在 u - v 迹吗？

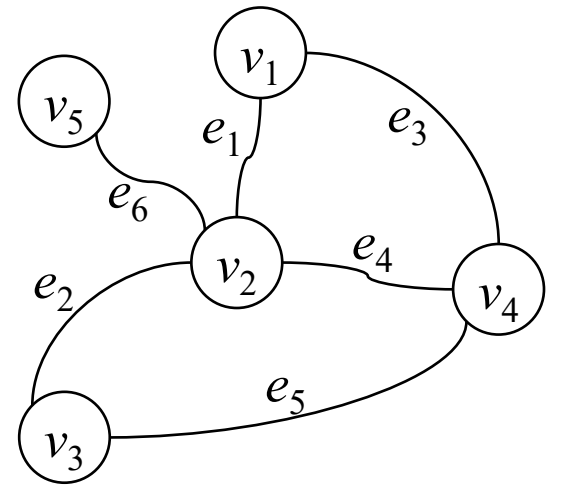
- $v_3, e_2, v_2, e_4, v_4, e_3, v_1, e_1, v_2, e_4, v_4, e_4, v_2$

删除重复边之间的子序列



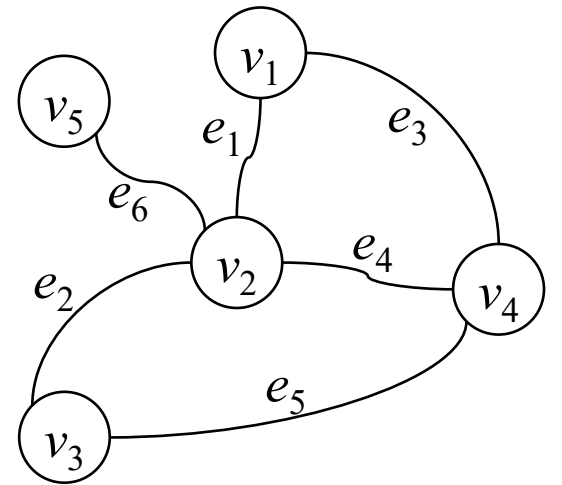
思考题2.1

- 若图中存在 u - v 路线, 则一定存在 u - v 迹吗?
 - $v_3, e_2, v_2, e_4, v_4, e_4, v_2$



思考题2.1

- 若图中存在 u - v 路线, 则一定存在 u - v 迹吗?
 - $v_3, e_2, v_2, e_4, v_4, e_4, v_2$

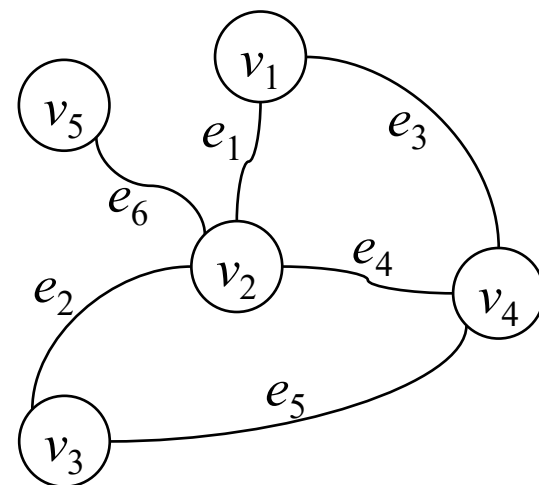


思考题2.1

■ 若图中存在 u - v 路线，则一定存在 u - v 迹吗？

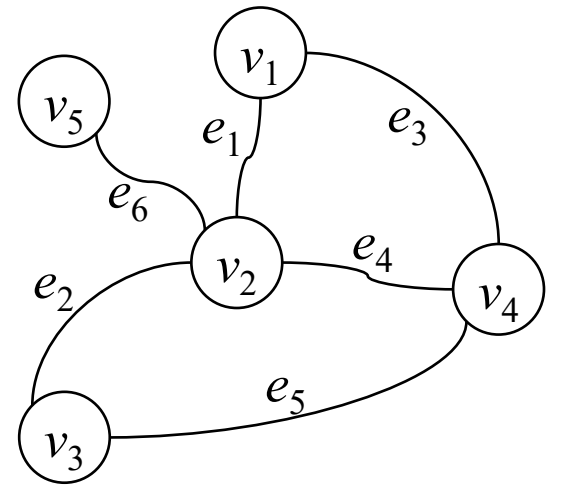
- $v_3, e_2, v_2, e_4, v_4, e_4, v_2$

删除重复边之间的子序列



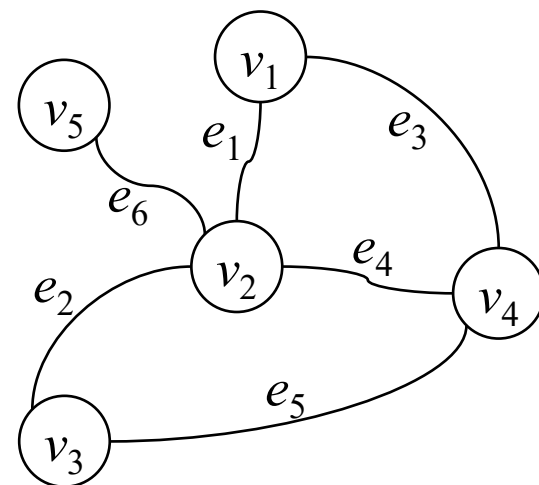
思考题2.1

- 若图中存在 u - v 路线，则一定存在 u - v 迹吗？
 - v_3, e_2, v_2



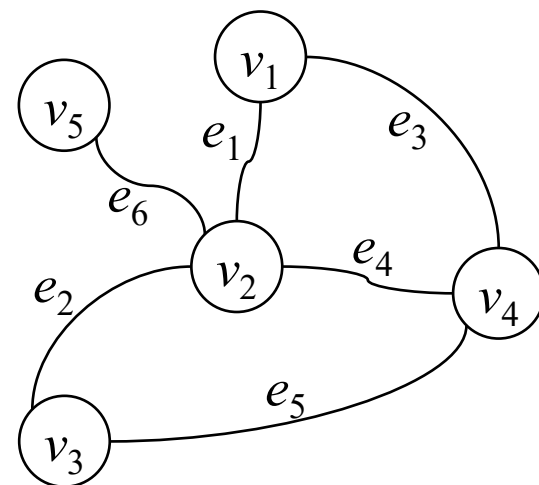
思考题2.1

- 若图中存在 u - v 路线，则一定存在 u - v 迹吗？
 - v_3, e_2, v_2
- 若图中存在 u - v 迹，则一定存在 u - v 路吗？



思考题2.1

- 若图中存在 u - v 路线，则一定存在 u - v 迹吗？
 - v_3, e_2, v_2
- 若图中存在 u - v 迹，则一定存在 u - v 路吗？
 - $v_1, v_2, v_3, v_4, v_2, v_5$



思考题2.1

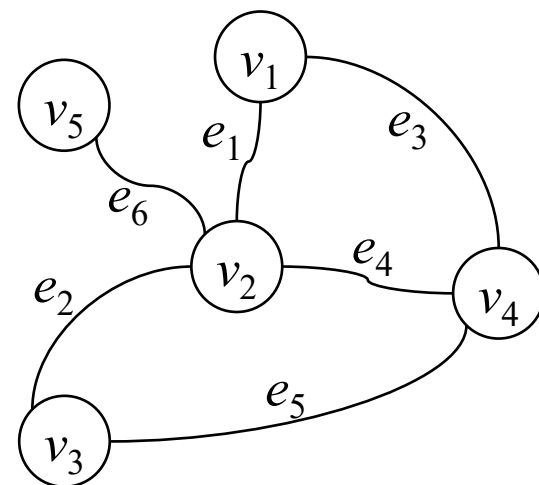
■ 若图中存在 u - v 路线，则一定存在 u - v 迹吗？

- v_3, e_2, v_2

■ 若图中存在 u - v 迹，则一定存在 u - v 路吗？

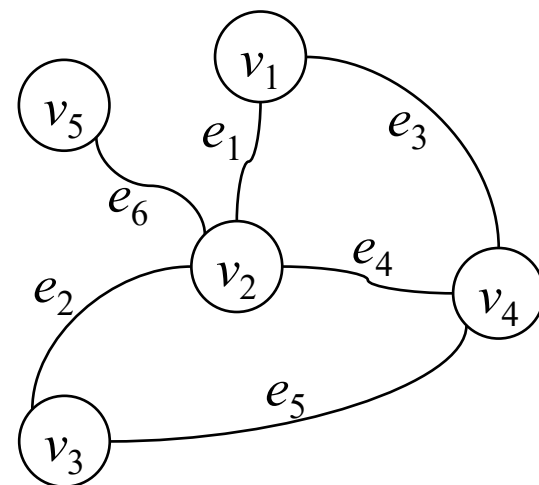
- $v_1, v_2, v_3, v_4, v_2, v_5$

删除重复顶点之间的子序列



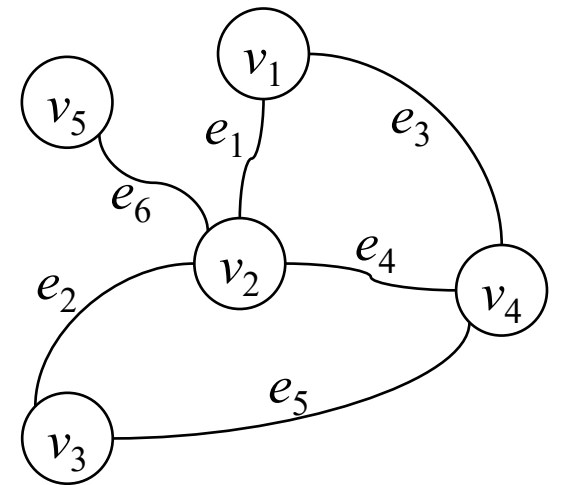
思考题2.1

- 若图中存在 u - v 路线，则一定存在 u - v 迹吗？
 - v_3, e_2, v_2
- 若图中存在 u - v 迹，则一定存在 u - v 路吗？
 - v_1, v_2, v_5



思考题2.2

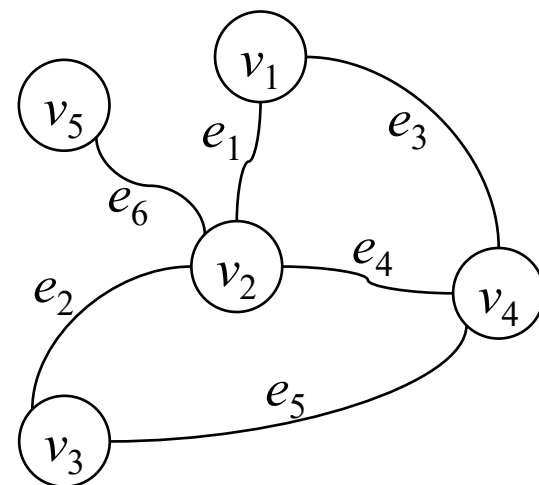
- 若图中存在 $u-v$ 路线和 $v-w$ 路线，则一定存在 $u-w$ 路线吗？



思考题2.2

■ 若图中存在 u - v 路线和 v - w 路线, 则一定存在 u - w 路线吗?

- v_1, v_2, v_5 v_5, v_2, v_3

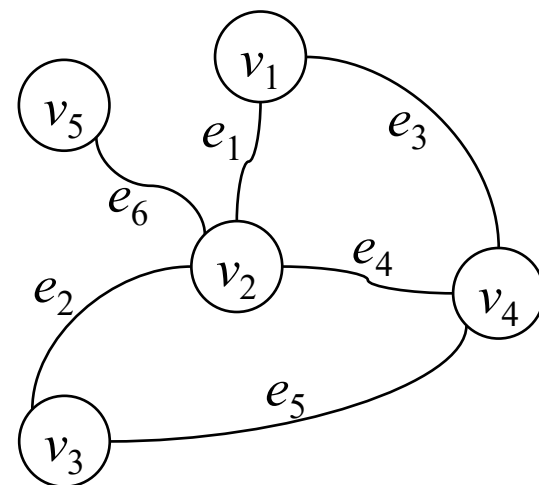


思考题2.2

■ 若图中存在 $u-v$ 路线和 $v-w$ 路线, 则一定存在 $u-w$ 路线吗?

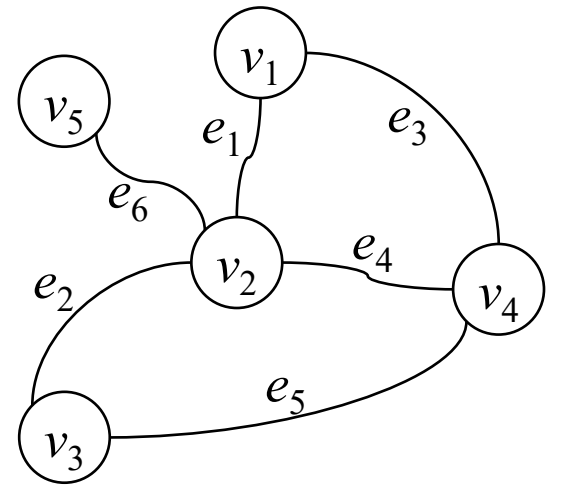
- $v_1, v_2, v_5, v_5, v_2, v_3$

序列拼接



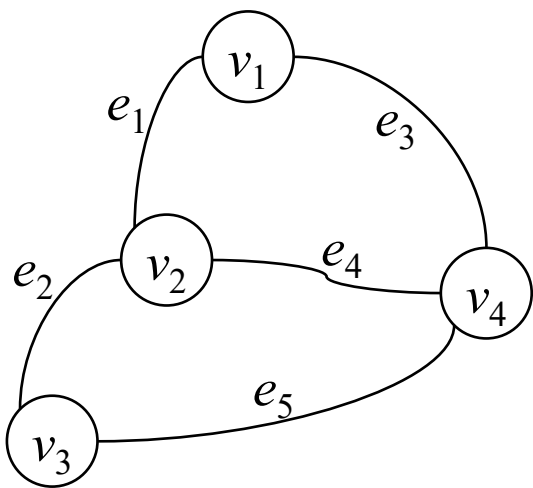
思考题2.2

- 若图中存在 u - v 路线和 v - w 路线, 则一定存在 u - w 路线吗?
 - v_1, v_2, v_5, v_2, v_3



思考题2.3

- 对于图 G 的邻接矩阵 A ，矩阵 A^k 的第 i 行第 j 列元素有什么含义？

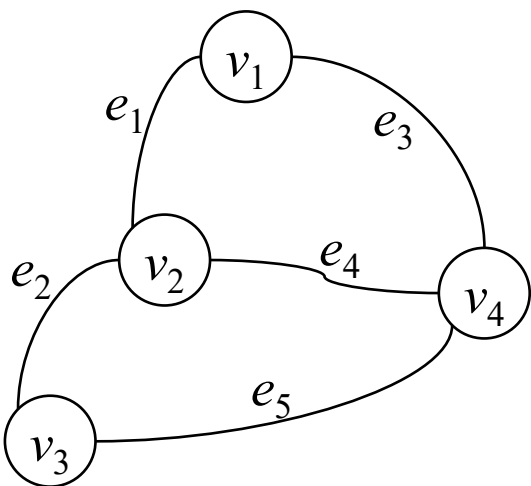


$$\begin{pmatrix} 0 & 1 & 0 & 1 \\ 1 & 0 & 1 & 1 \\ 0 & 1 & 0 & 1 \\ 1 & 1 & 1 & 0 \end{pmatrix}$$



思考题2.3

- 对于图 G 的邻接矩阵 A ，矩阵 A^k 的第 i 行第 j 列元素有什么含义？
 - 长度为 k 的 v_i - v_j 路线的数量

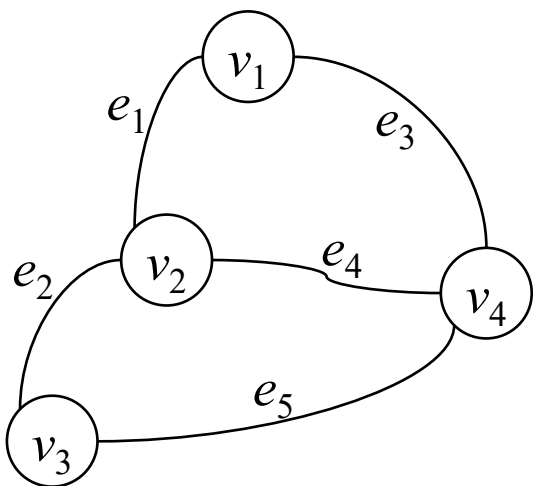


$$\begin{pmatrix} 0 & 1 & 0 & 1 \\ 1 & 0 & 1 & 1 \\ 0 & 1 & 0 & 1 \\ 1 & 1 & 1 & 0 \end{pmatrix}$$



思考题2.3

- 对于图 G 的邻接矩阵 A ，矩阵 A^k 的第 i 行第 j 列元素有什么含义？
 - 长度为 k 的 v_i-v_j 路线的数量
- 采用数学归纳法：
- 当 $k=1$ 时：
 - 假设 $k=n$ 时成立，则 $k=n+1$ 时：

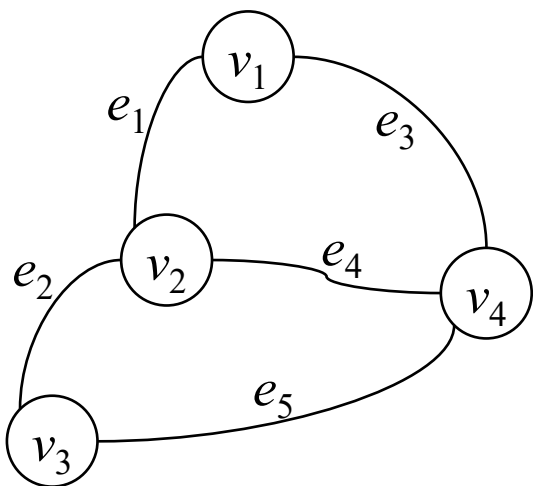


$$\begin{pmatrix} 0 & 1 & 0 & 1 \\ 1 & 0 & 1 & 1 \\ 0 & 1 & 0 & 1 \\ 1 & 1 & 1 & 0 \end{pmatrix}$$



思考题2.3

- 对于图 G 的邻接矩阵 A ，矩阵 A^k 的第 i 行第 j 列元素有什么含义？
 - 长度为 k 的 v_i-v_j 路线的数量
采用数学归纳法：
 - 当 $k=1$ 时： $A^k=A$ ，成立。
 - 假设 $k=n$ 时成立，则 $k=n+1$ 时：

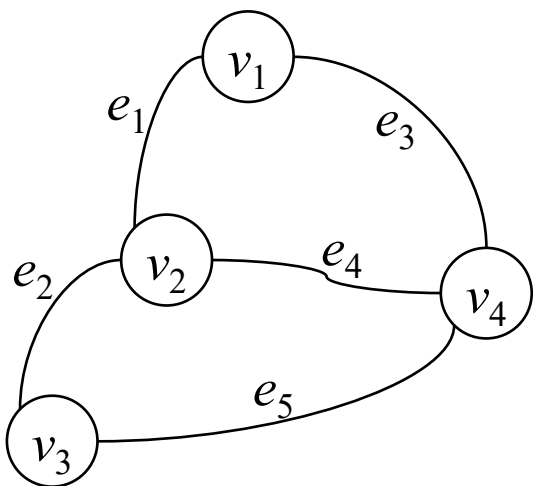


$$\begin{pmatrix} 0 & 1 & 0 & 1 \\ 1 & 0 & 1 & 1 \\ 0 & 1 & 0 & 1 \\ 1 & 1 & 1 & 0 \end{pmatrix}$$



思考题2.3

- 对于图 G 的邻接矩阵 A ，矩阵 A^k 的第 i 行第 j 列元素有什么含义？
 - 长度为 k 的 v_i-v_j 路线的数量
采用数学归纳法：
 - 当 $k=1$ 时： $A^k=A$ ，成立。
 - 假设 $k=n$ 时成立，则 $k=n+1$ 时：



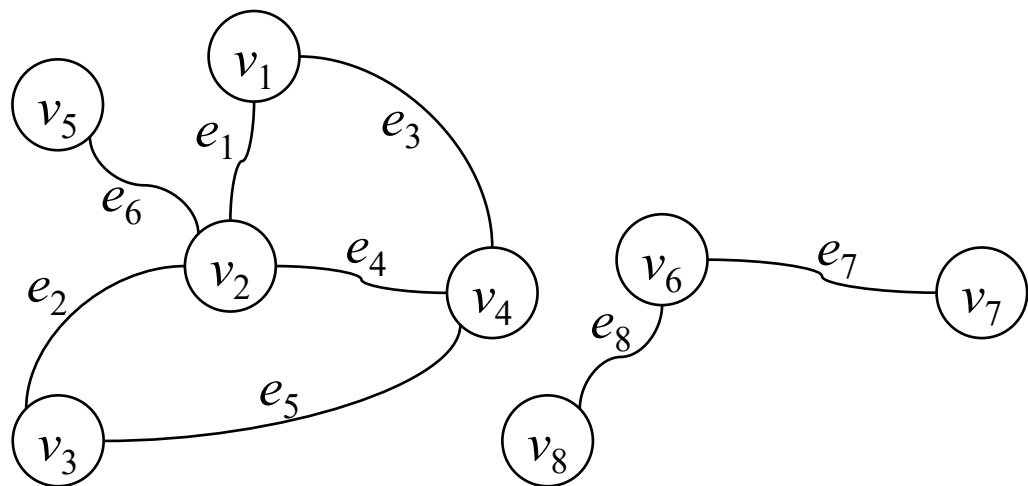
$$\begin{pmatrix} 0 & 1 & 0 & 1 \\ 1 & 0 & 1 & 1 \\ 0 & 1 & 0 & 1 \\ 1 & 1 & 1 & 0 \end{pmatrix}$$

A^n 的第 i 行：长度为 n 的 v_i -*路线的数量
 A 的第 j 列：长度为1的*- v_j 路线的数量



连通、不连通

- 若图中存在 u - v 路，则称顶点 u 和 v 连通，否则称 u 和 v 不连通。
 - 例如：顶点 v_1, v_2, v_3, v_4, v_5 两两连通，它们和顶点 v_6, v_7, v_8 不连通



定理2.1

- 连通关系是定义在顶点集上的等价关系。



定理2.1

- 连通关系是定义在顶点集上的等价关系。
 - 自反性:
 - 对称性:
 - 传递性:



定理2.1

- 连通关系是定义在顶点集上的等价关系。
 - 自反性：对于图 $G = \langle V, E \rangle$ 中任意一个顶点 $v \in V$ ，存在平凡 v - v 路。
 - 对称性：
 - 传递性：



定理2.1

- 连通关系是定义在顶点集上的等价关系。
 - 自反性：对于图 $G = \langle V, E \rangle$ 中任意一个顶点 $v \in V$ ，存在平凡 v - v 路。
 - 对称性：对于任意两个顶点 $u, v \in V$ ，若存在 u - v 路，则其逆序列是 v - u 路。
 - 传递性：



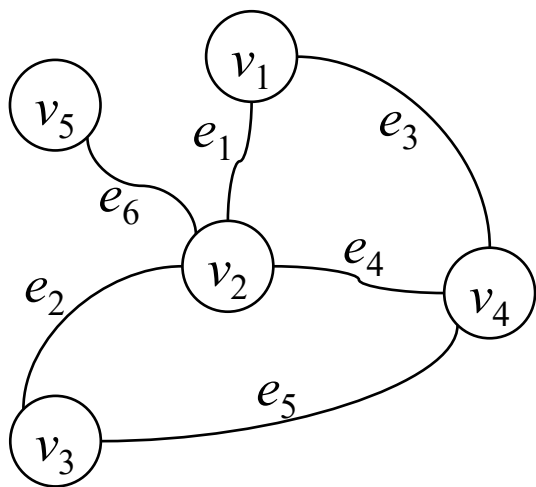
定理2.1

- 连通关系是定义在顶点集上的等价关系。
 - 自反性：对于图 $G = \langle V, E \rangle$ 中任意一个顶点 $v \in V$ ，存在平凡 v - v 路。
 - 对称性：对于任意两个顶点 $u, v \in V$ ，若存在 u - v 路，则其逆序列是 v - u 路。
 - 传递性：对于任意三个顶点 $u, v, w \in V$ ，若存在 u - v 路和 v - w 路，则这两个序列拼接形成一条 u - w 路线，其包含的一个子序列是一条 u - w 路。

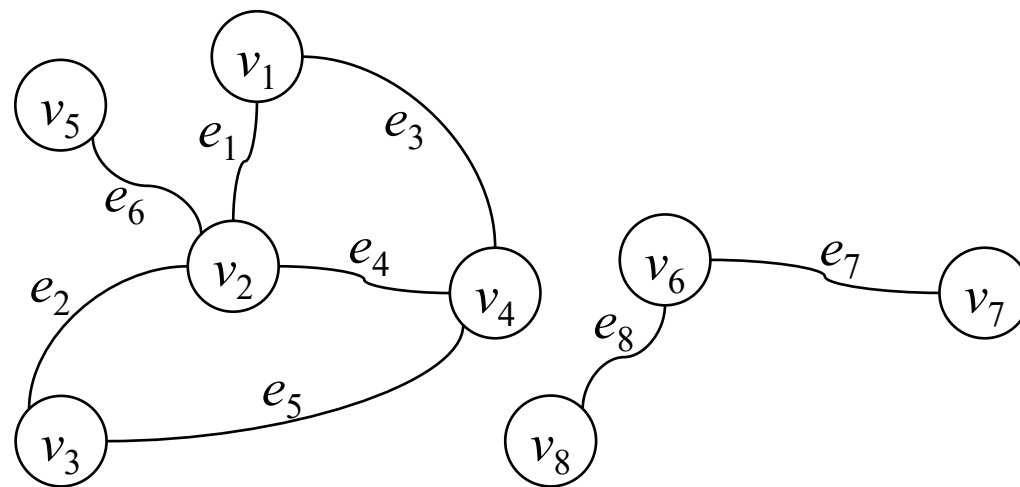


连通、连通图、不连通、不连通图

- 对于图 $G = \langle V, E \rangle$ ，若顶点集 V 中每对顶点都连通，则称 G 连通，是连通图，否则称 G 不连通，是不连通图。



连通图

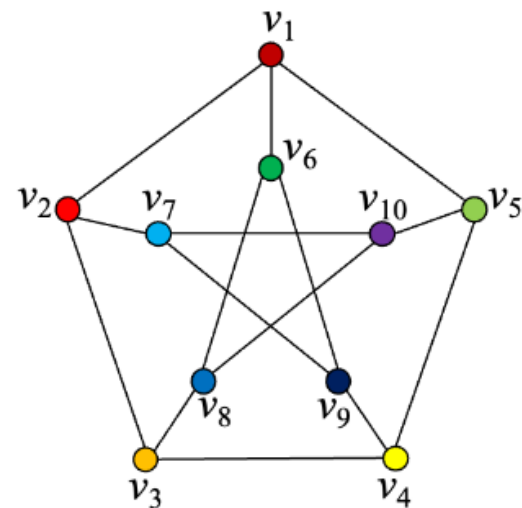


不连通图



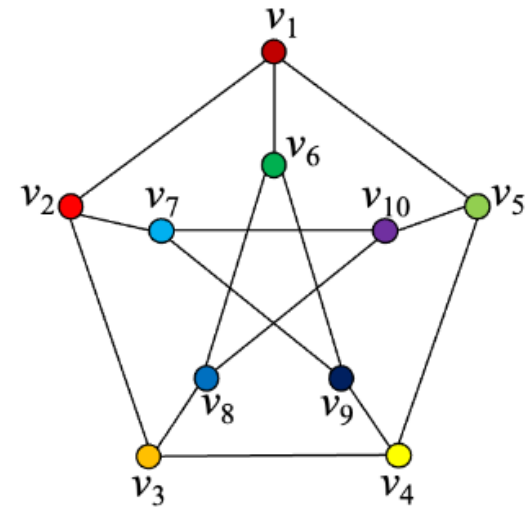
思考题2.5

- 彼得森图是连通图吗？




思考题2.5

- 彼得森图是连通图吗?
 - 是




思考题2.6

- 平凡图是连通图吗？



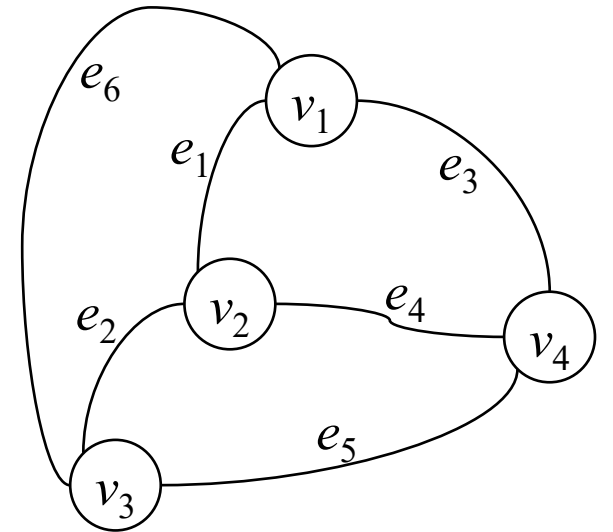
思考题2.6

- 平凡图是连通图吗?
 - 是



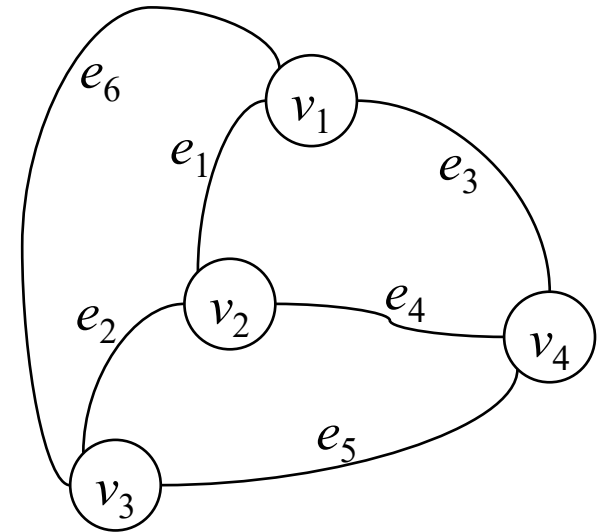
思考题2.7

- 完全图是连通图吗？



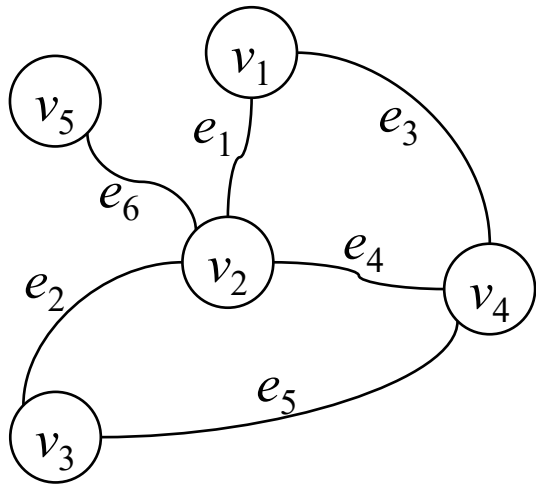
思考题2.7

- 完全图是连通图吗?
 - 是



思考题2.8

- 连通图的子图连通吗？



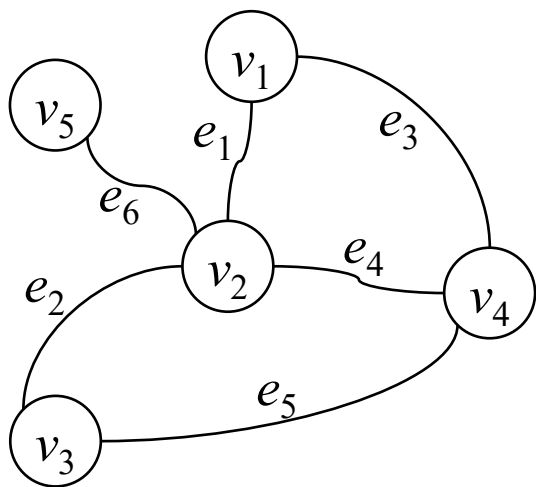
连通图



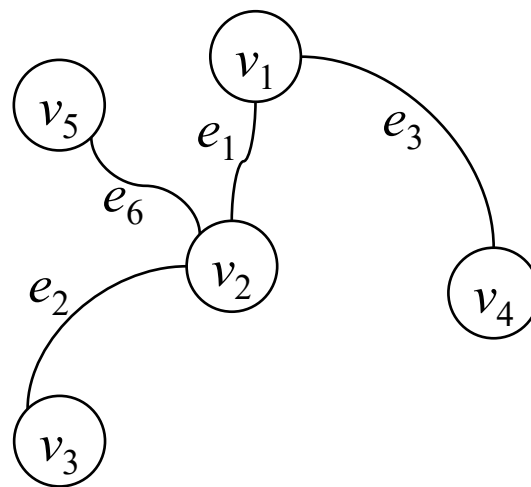
思考题2.8

■ 连通图的子图连通吗？

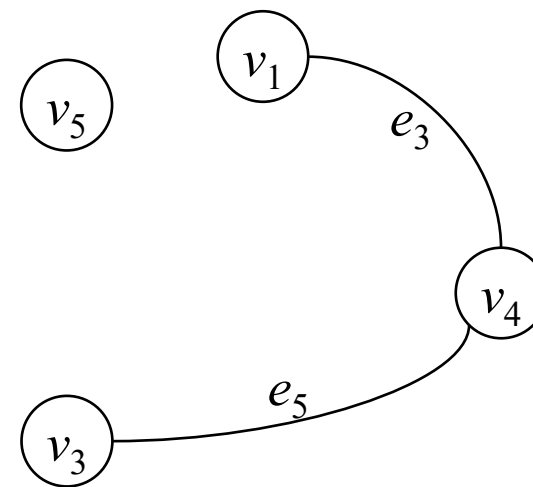
- 有可能连通
- 有可能不连通



连通图



连通的子图

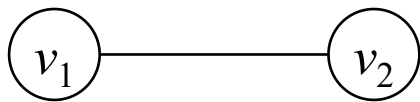


不连通的子图

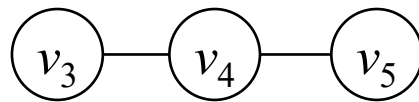


思考题2.9

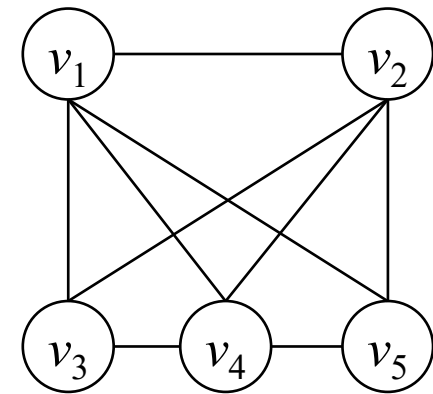
- 两个连通图的联连通吗？



图G



图H

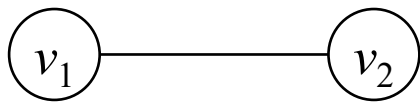


$G \vee H$

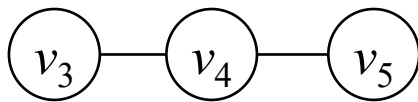


思考题2.9

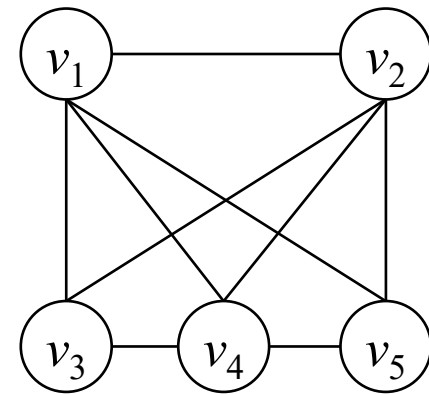
- 两个连通图的联连通吗?
 - 连通



图G



图H

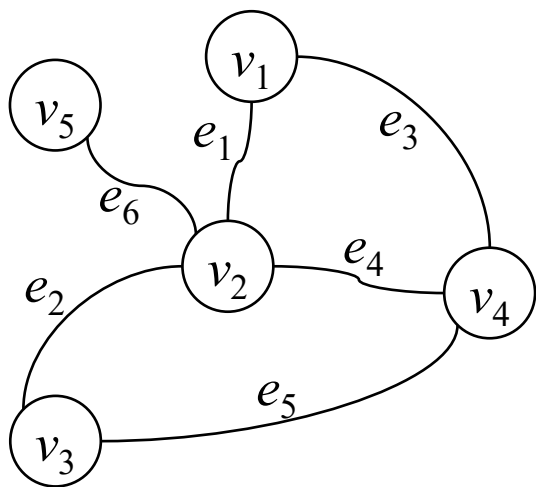


$G \vee H$

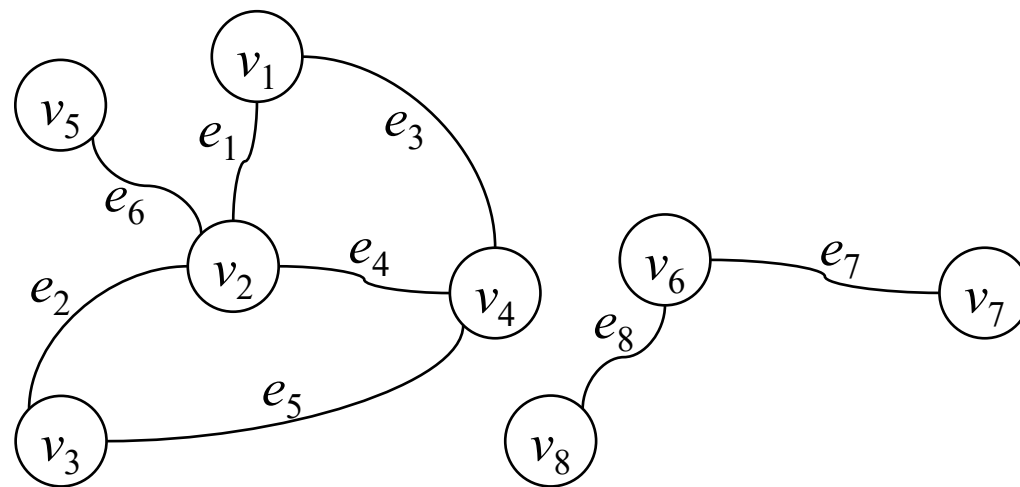


思考题2.10

- 连通图的邻接矩阵有什么特征？不连通图的邻接矩阵有什么特征？



连通图

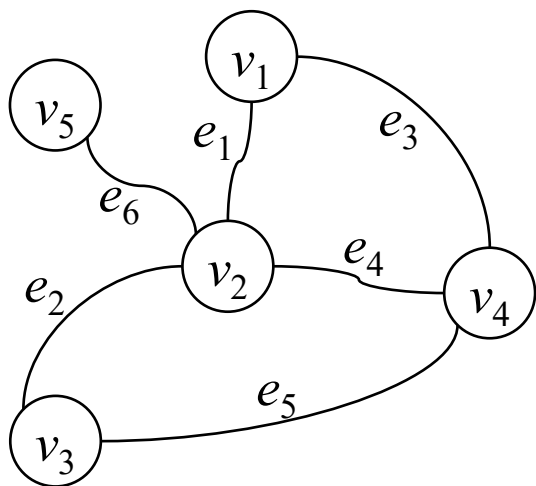


不连通图

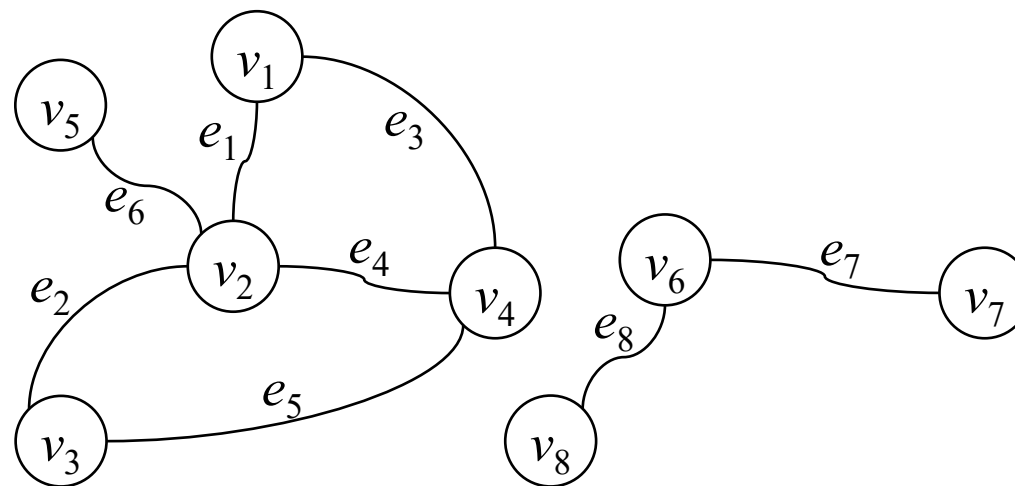


思考题2.10

- 连通图的邻接矩阵有什么特征？不连通图的邻接矩阵有什么特征？
 - 矩阵 A^k 的第 i 行第 j 列元素：长度为 k 的 v_i-v_j 路线的数量。
因此， $A(G) + A^2(G) + \dots + A^{v(G)-1}(G)$ 的非主对角线元素全不为0。



连通图



不连通图

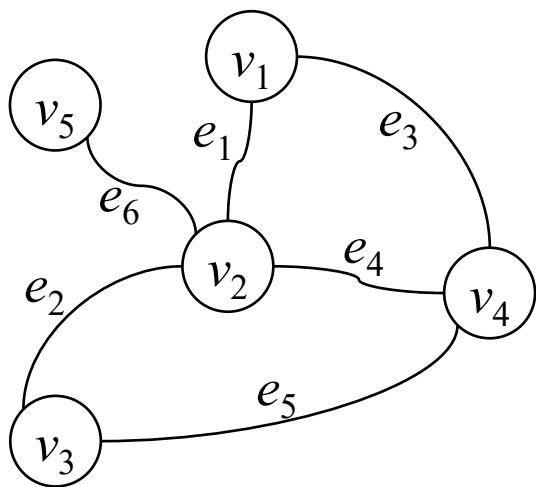


思考题2.10

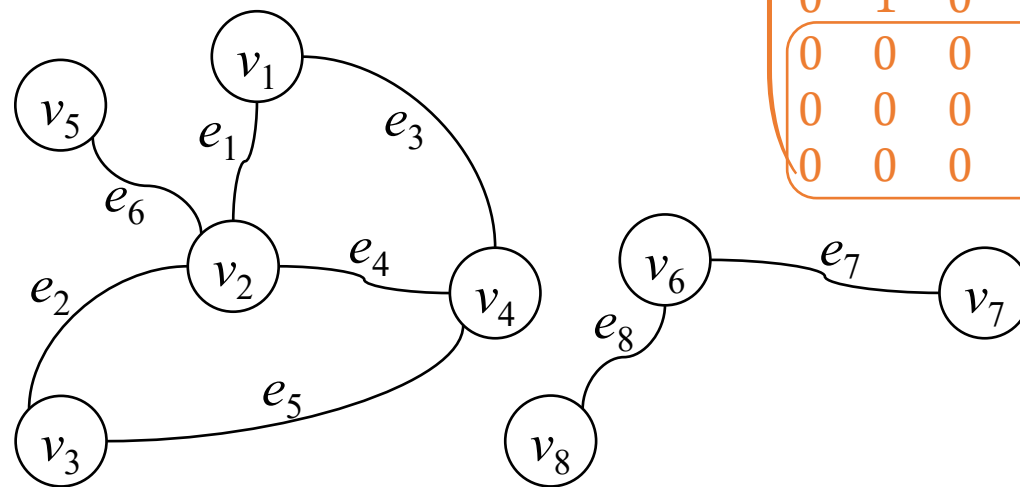
■ 连通图的邻接矩阵有什么特征？不连通图的邻接矩阵有什么特征？

- 矩阵 A^k 的第 i 行第 j 列元素：长度为 k 的 v_i-v_j 路线的数量。
因此， $A(G) + A^2(G) + \dots + A^{v(G)-1}(G)$ 的非主对角线元素全不为0。

- 可通过行置换和列置换转化为左下和右上为零矩阵的 2×2 分块矩阵。



连通图



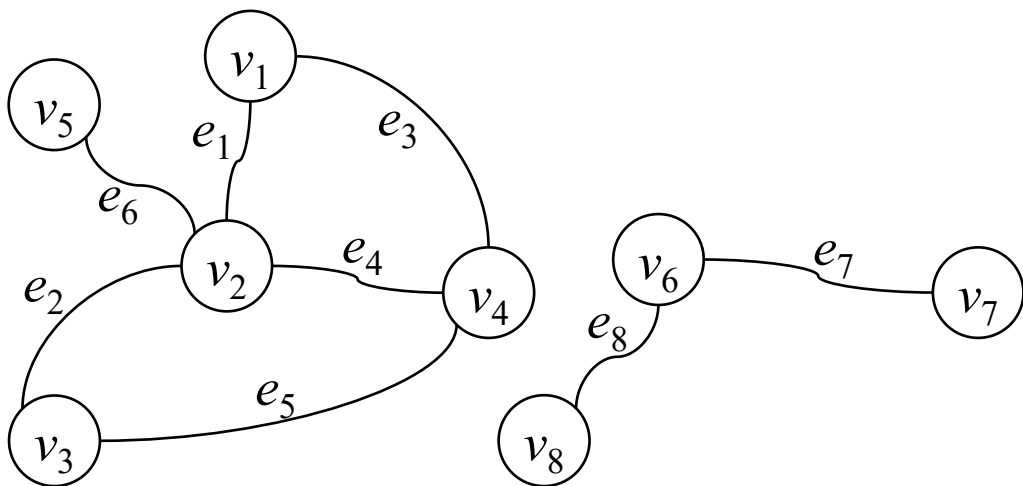
不连通图

0	1	0	1	0	0	0	0
1	0	1	1	1	0	0	0
0	1	0	1	0	0	0	0
1	1	1	0	0	0	0	0
0	1	0	0	0	0	0	0
0	0	0	0	0	0	1	1
0	0	0	0	0	1	0	0
0	0	0	0	0	1	0	0



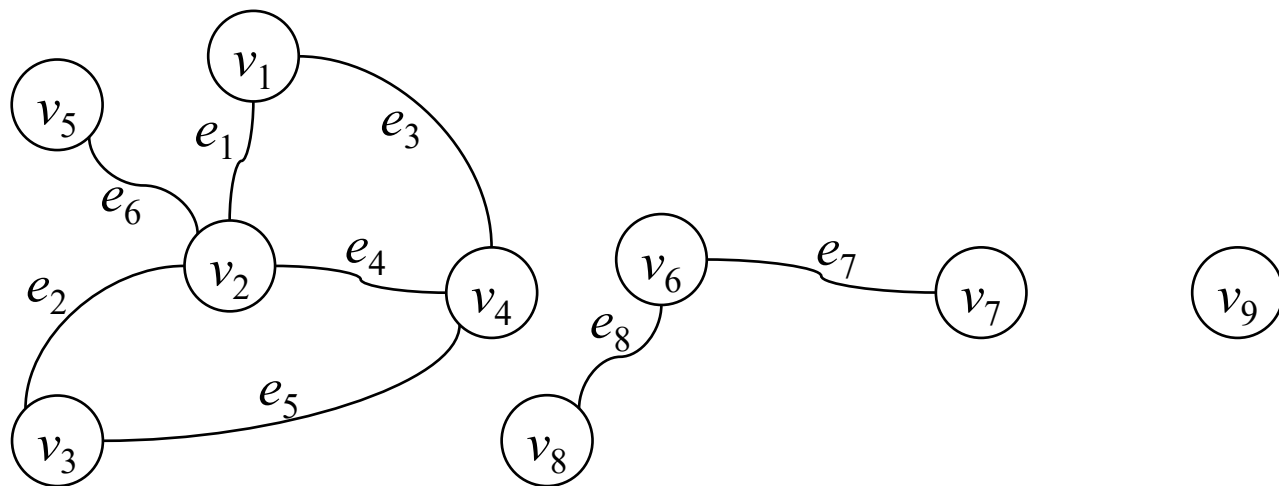
连通分支、平凡连通分支

- 图 G 的极大连通子图称作 G 的**连通分支**。
极大连通子图的含义是：该子图连通，且不是 G 的任何连通子图的真子图。
 - 例如：2个连通分支



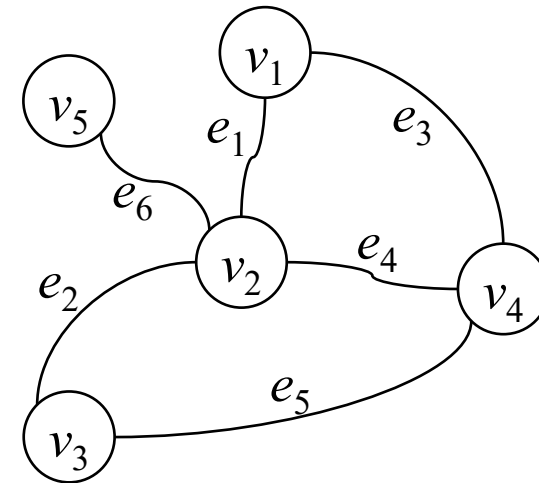
连通分支、平凡连通分支

- 图 G 的极大连通子图称作 G 的连通分支。
极大连通子图的含义是：该子图连通，且不是 G 的任何连通子图的真子图。
 - 例如：2个连通分支
- 阶为1的连通分支称作**平凡连通分支**。



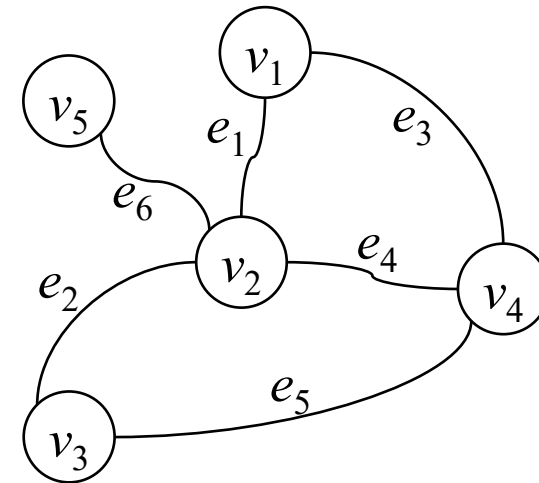
思考题2.11

- 连通图有多少个连通分支？



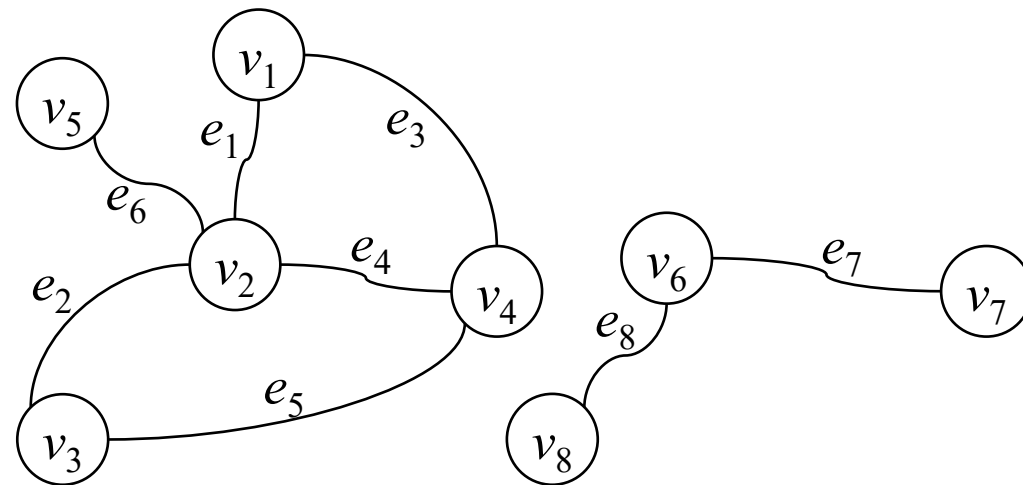
思考题2.11

- 连通图有多少个连通分支?
 - 1个



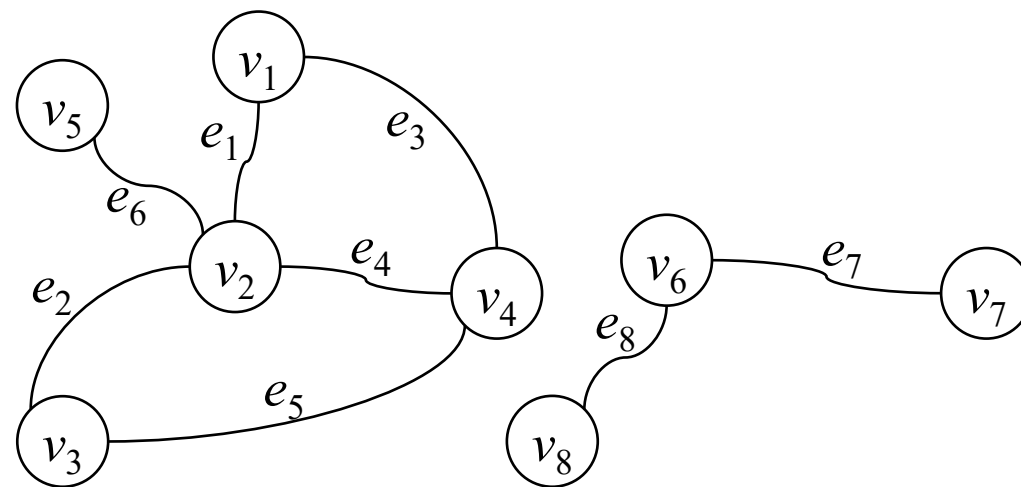
思考题2.12

- 一个顶点可以出现在图的两个连通分支中吗?
- 一条边可以出现在图的两个连通分支中吗?



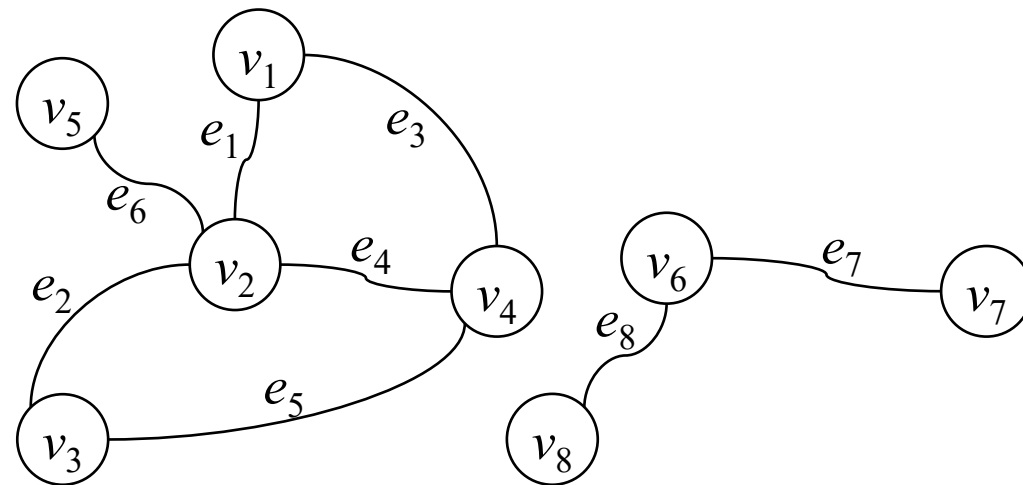
思考题2.12

- 一个顶点可以出现在图的两个连通分支中吗?
 - 不可以
- 一条边可以出现在图的两个连通分支中吗?



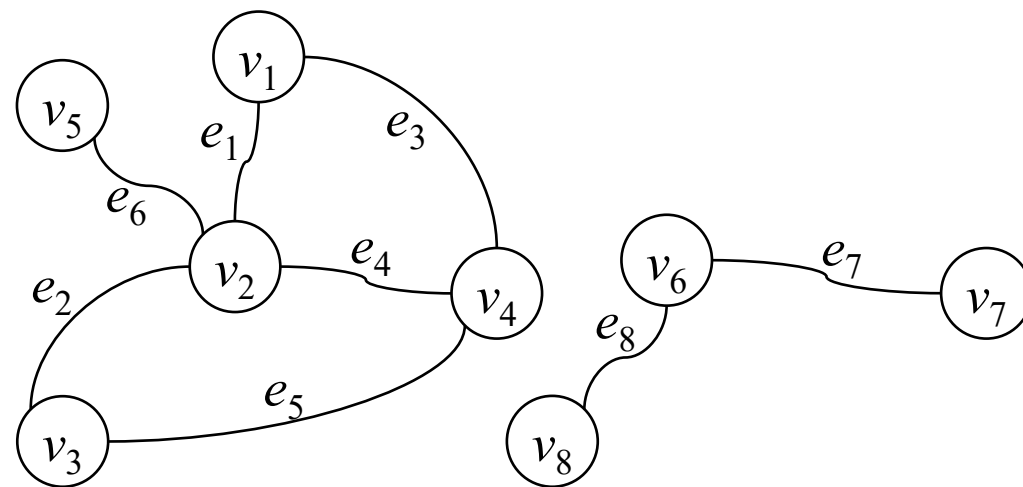
思考题2.12

- 一个顶点可以出现在图的两个连通分支中吗?
 - 不可以
- 一条边可以出现在图的两个连通分支中吗?
 - 不可以



思考题2.12

- 一个顶点可以出现在图的两个连通分支中吗?
 - 不可以
- 一条边可以出现在图的两个连通分支中吗?
 - 不可以
- 顶点集 V 上的连通关系将 V 划分为若干子集, 每个子集 $V_i \subseteq V$ 的点导出子图 $G[V_i]$ 形成一个连通分支。



思考题2.13

- 若图 G 连通, 则图 \bar{G} 连通吗?
- 若 G 不连通, 则 \bar{G} 连通吗?



思考题2.13

- 若图 G 连通，则图 \bar{G} 连通吗？
 - 有可能连通
- 若 G 不连通，则 \bar{G} 连通吗？

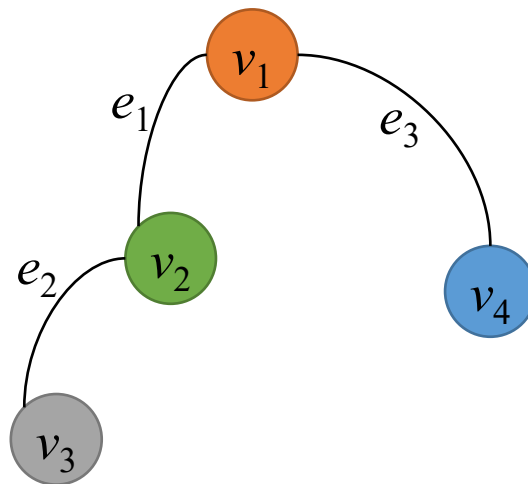


图 G

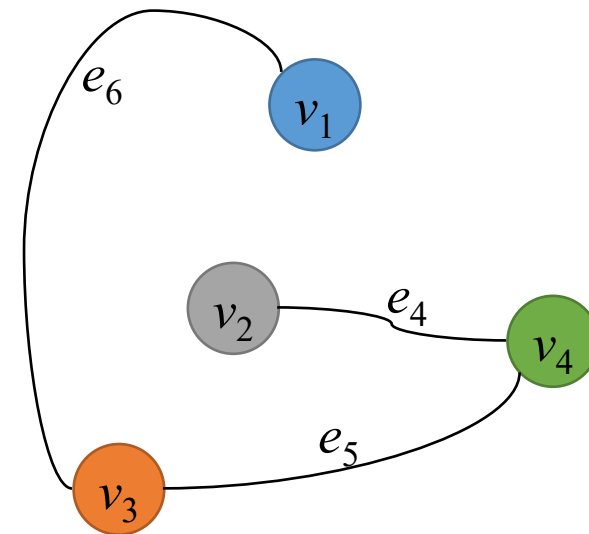
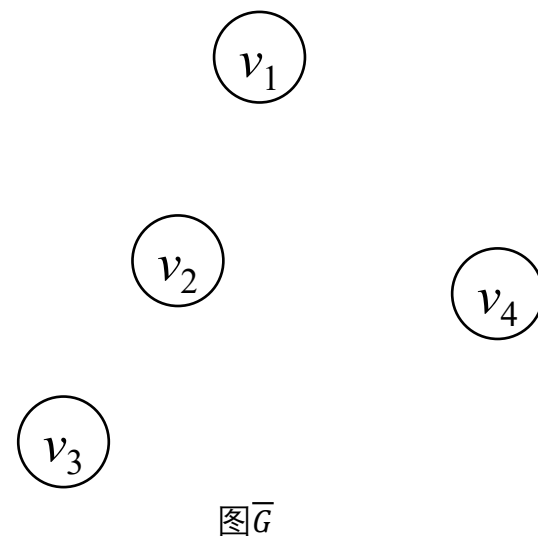
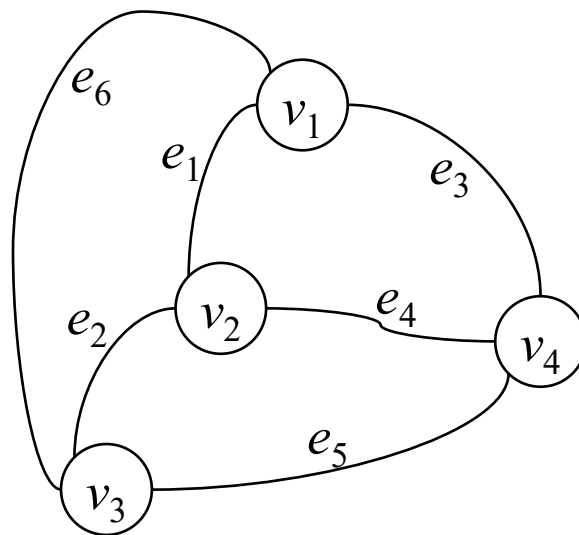


图 \bar{G}



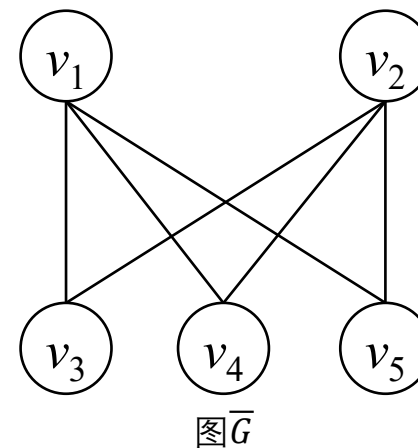
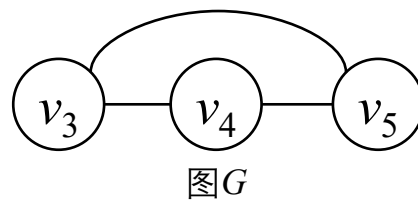

思考题2.13

- 若图 G 连通，则图 \bar{G} 连通吗？
 - 有可能连通
 - 有可能不连通
- 若 G 不连通，则 \bar{G} 连通吗？



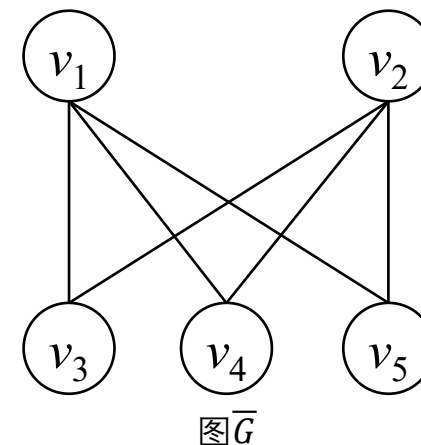
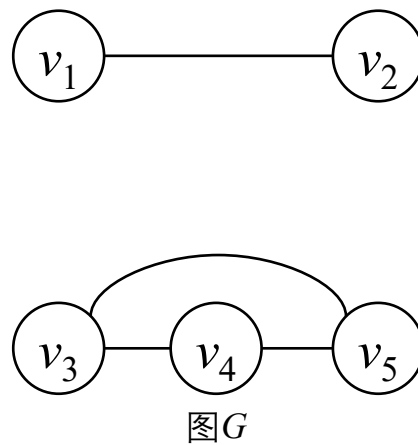
思考题2.13

- 若图 G 连通，则图 \bar{G} 连通吗？
 - 有可能连通
 - 有可能不连通
- 若 G 不连通，则 \bar{G} 连通吗？



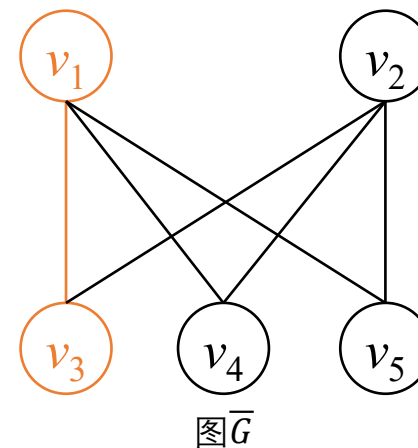
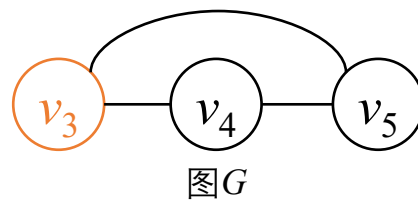

思考题2.13

- 若图 G 连通，则图 \bar{G} 连通吗？
 - 有可能连通
 - 有可能不连通
- 若 G 不连通，则 \bar{G} 连通吗？
 - G 有至少2个连通分支。



思考题2.13

- 若图 G 连通，则图 \bar{G} 连通吗？
 - 有可能连通
 - 有可能不连通
- 若 G 不连通，则 \bar{G} 连通吗？
 - G 有至少2个连通分支。
 - 对于 \bar{G} 中任意两个顶点 v_i 和 v_j
 - 若 v_i 和 v_j 在 G 的不同连通分支中，则 v_i 和 v_j 在 \bar{G} 中相邻。



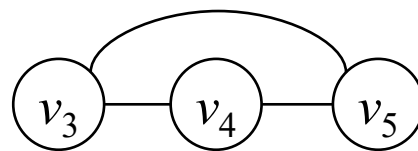
思考题2.13

■ 若图 G 连通，则图 \bar{G} 连通吗？

- 有可能连通
- 有可能不连通

■ 若 G 不连通，则 \bar{G} 连通吗？

- G 有至少2个连通分支。
- 对于 \bar{G} 中任意两个顶点 v_i 和 v_j
 - 若 v_i 和 v_j 在 G 的不同连通分支中，则 v_i 和 v_j 在 \bar{G} 中相邻。
 - 若 v_i 和 v_j 在 G 的同一个连通分支中，则 v_i 和 v_j 在 \bar{G} 中有公共邻点（在 G 的另一个连通分支中）。



图G

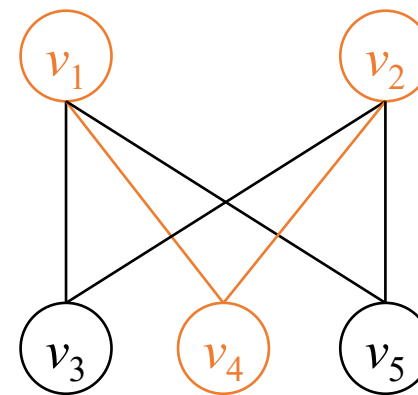


图 \bar{G}



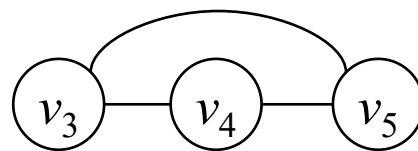

思考题2.13

■ 若图 G 连通，则图 \bar{G} 连通吗？

- 有可能连通
- 有可能不连通

■ 若 G 不连通，则 \bar{G} 连通吗？

- G 有至少2个连通分支。
- 对于 \bar{G} 中任意两个顶点 v_i 和 v_j
 - 若 v_i 和 v_j 在 G 的不同连通分支中，则 v_i 和 v_j 在 \bar{G} 中相邻。
 - 若 v_i 和 v_j 在 G 的同一个连通分支中，则 v_i 和 v_j 在 \bar{G} 中有公共邻点（在 G 的另一个连通分支中）。
- 综上， \bar{G} 连通。



图G

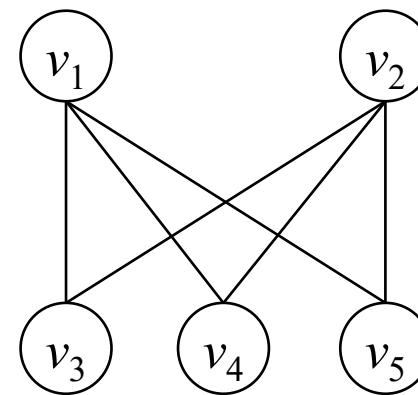


图 \bar{G}



思考题2.14

- 自补图是连通图吗？

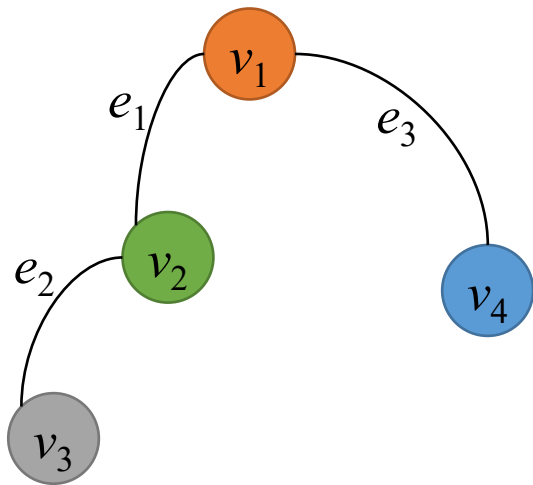


图 G

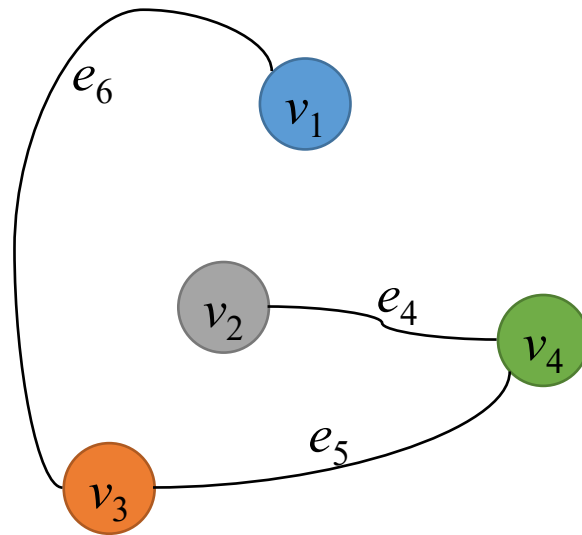
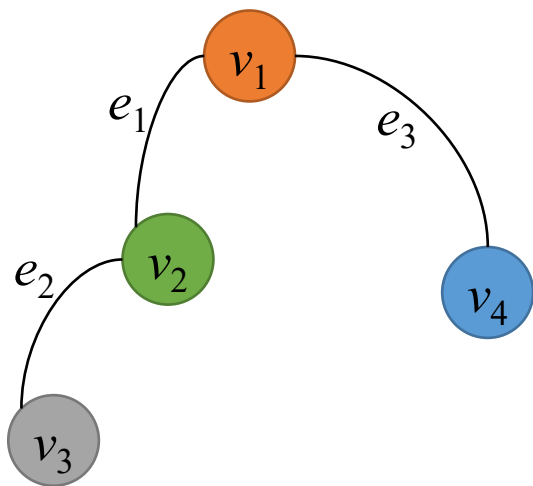


图 \bar{G}



思考题2.14

- 自补图是连通图吗？
 - 是，否则， \bar{G} 是连通图，而 G 和 \bar{G} 同构，矛盾。



图G

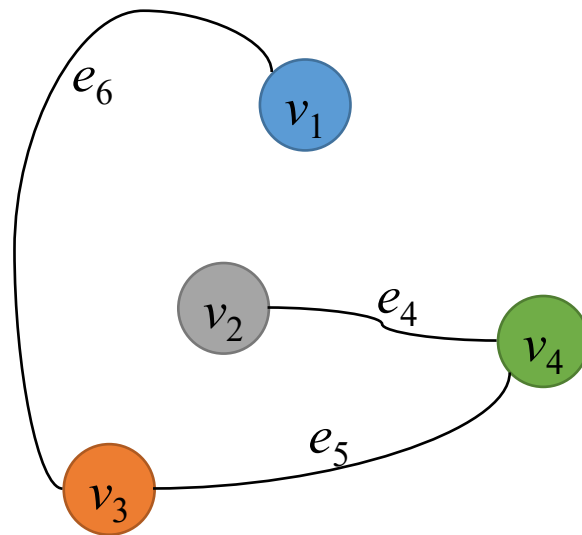


图 \bar{G}



接下来进入算法部分

