

第1章 图的基本概念

程龚

南京大学 计算机科学与技术系

gcheng@nju.edu.cn

<http://ws.nju.edu.cn/~gcheng>



本章内容

- 第1.1节 图的定义
- 第1.2节 图的表示
- 第1.3节 图的关系
- **第1.4节 图的运算**



删除边

- 对于图 $G = \langle V, E \rangle$ ，从 G 中**删除**边子集 $E' \subseteq E$ ，剩余的子图记作 $G - E'$
- 仅删除一条边 $e \in E$ 时，剩余的子图 $G - \{e\}$ 可简单记作 $G - e$
- 删除边时，并不删除边的端点

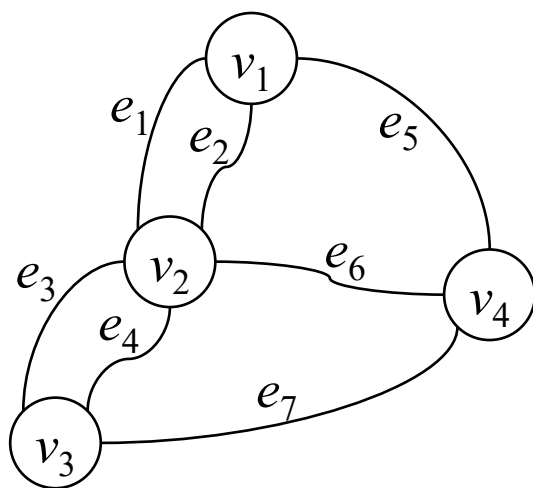
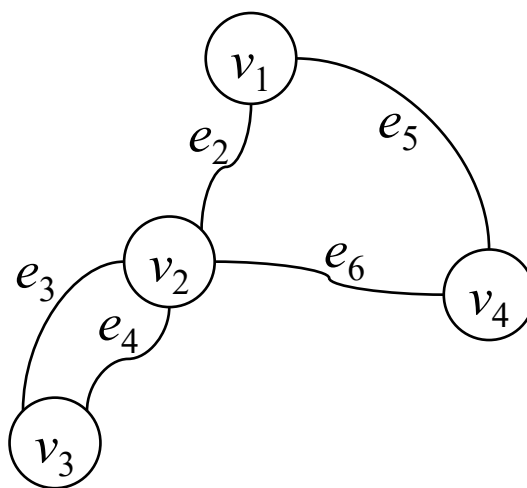


图 G



$G - \{e_1, e_7\}$



思考题1.18

- 对于图 $G = \langle V, E \rangle$ 的边子集 $E' \subseteq E$, 比较图 $G - E'$ 和边导出子图 $G[E \setminus E']$ 。



思考题1.18

■ 对于图 $G = \langle V, E \rangle$ 的边子集 $E' \subseteq E$ ，比较图 $G - E'$ 和边导出子图 $G[E \setminus E']$ 。

- 有可能相同

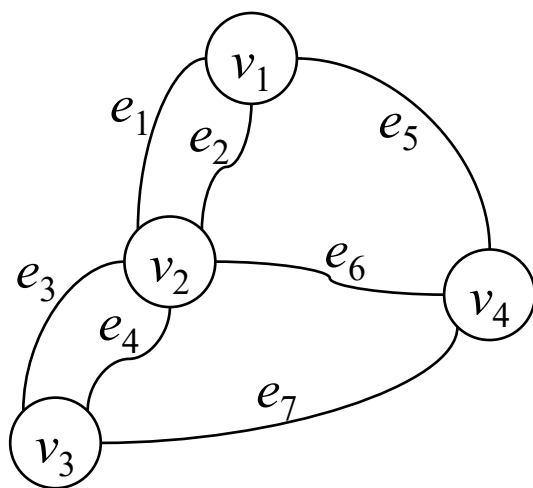
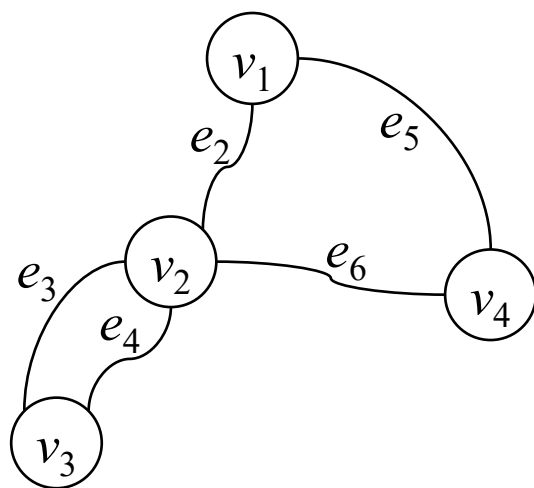
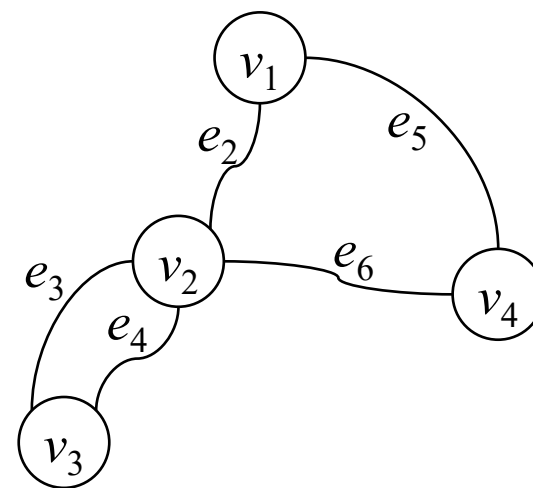


图 G



$G - \{e_1, e_7\}$

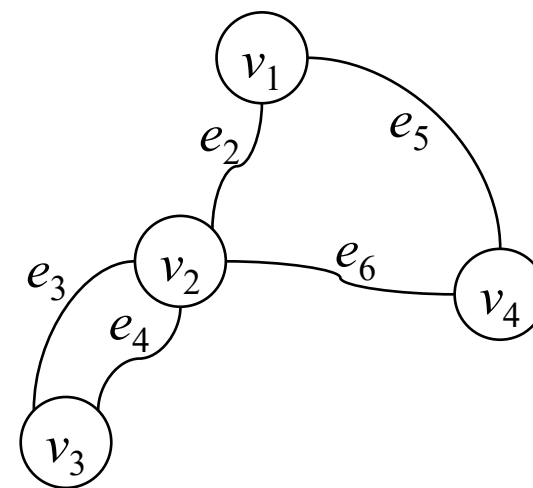
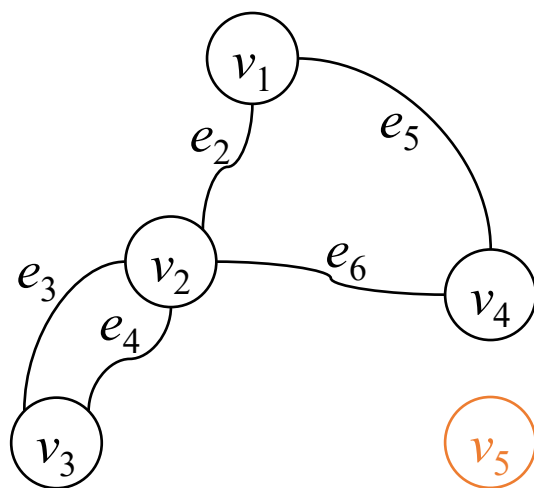
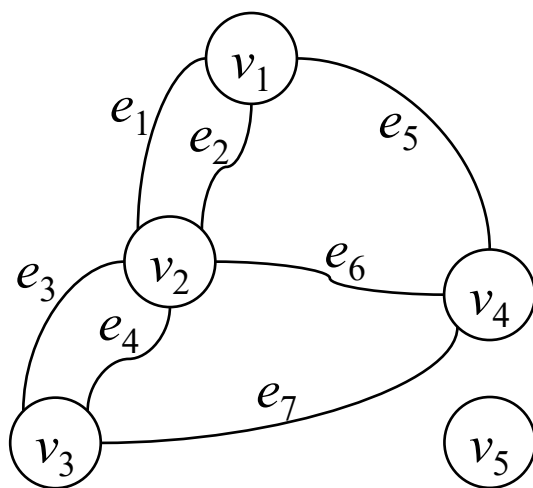


$G[E \setminus \{e_1, e_7\}]$



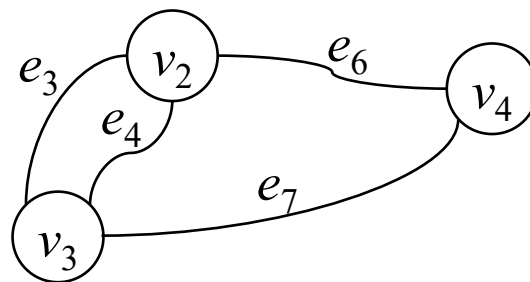
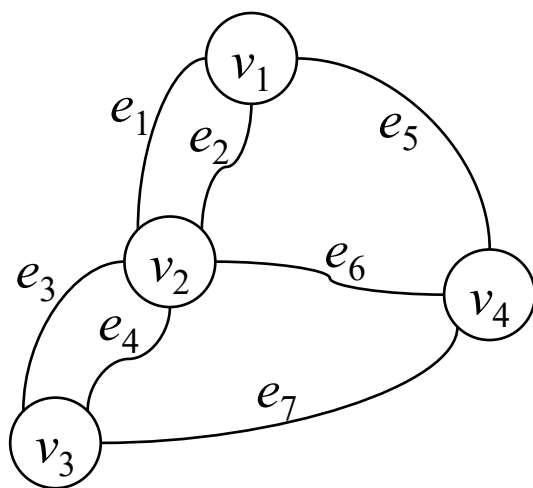
思考题1.18

- 对于图 $G = \langle V, E \rangle$ 的边子集 $E' \subseteq E$ ，比较图 $G - E'$ 和边导出子图 $G[E \setminus E']$ 。
 - 有可能相同
 - 有可能相差若干个孤立点



删除顶点

- 对于图 $G = \langle V, E \rangle$ ，从 G 中**删除**顶点子集 $V' \subseteq V$ ，剩余的子图记作 $G - V'$
- 仅删除一个顶点 $v \in V$ 时，剩余的子图 $G - \{v\}$ 可简记作 $G - v$
- 删除顶点时，同时删除其关联的所有边



思考题1.19

- 对于图 $G = \langle V, E \rangle$ 的顶点子集 $V' \subseteq V$, 比较图 $G - V'$ 和点导出子图 $G[V \setminus V']$ 。



思考题1.19

■ 对于图 $G = \langle V, E \rangle$ 的顶点子集 $V' \subseteq V$, 比较图 $G - V'$ 和点导出子图 $G[V \setminus V']$ 。

- 相同

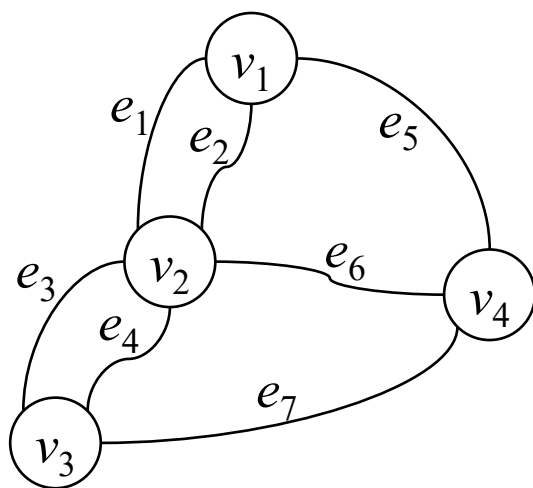
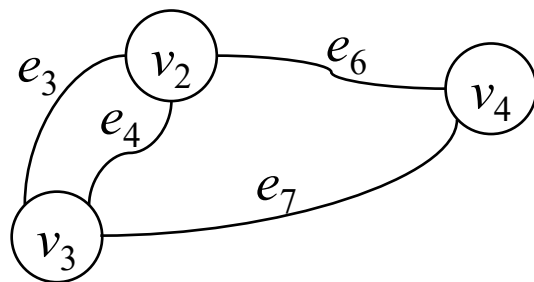
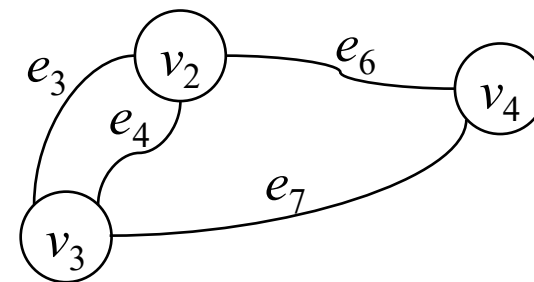


图 G



$G - \{v_1\}$



$G[V \setminus \{v_1\}]$



补图

- 简单图 $G = \langle V, E \rangle$ 的补图是以 V 为顶点集、 $\{(u, v) \mid (u, v) \notin E\}$ 为边集的简单图，记作 \bar{G}

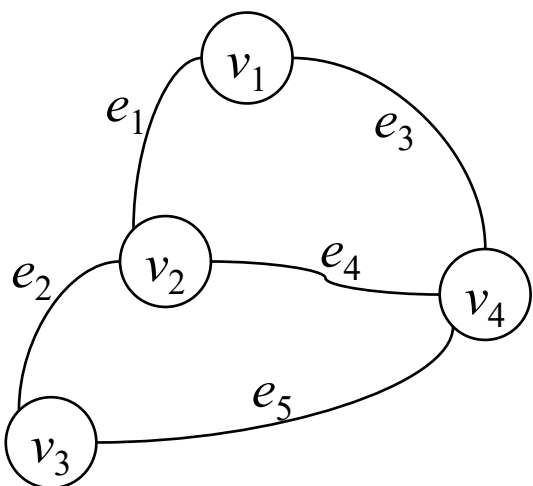


图 G

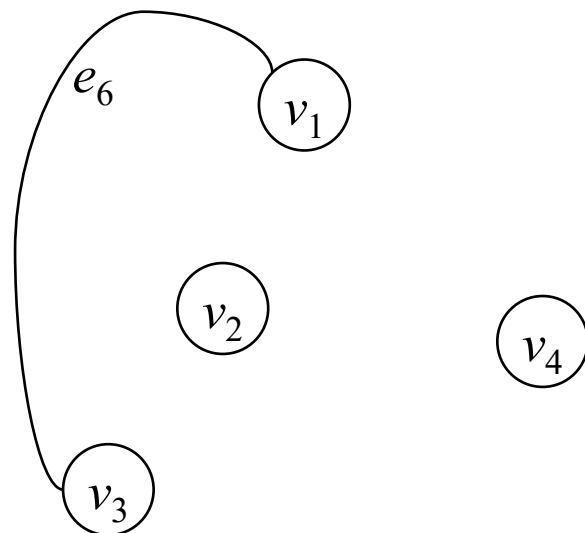


图 \bar{G}



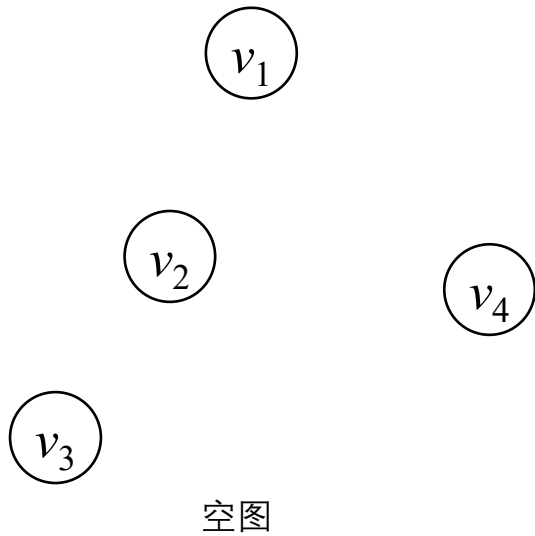
思考题1.20

- 空图、完全图、正则图的补图分别是什么？



思考题1.20

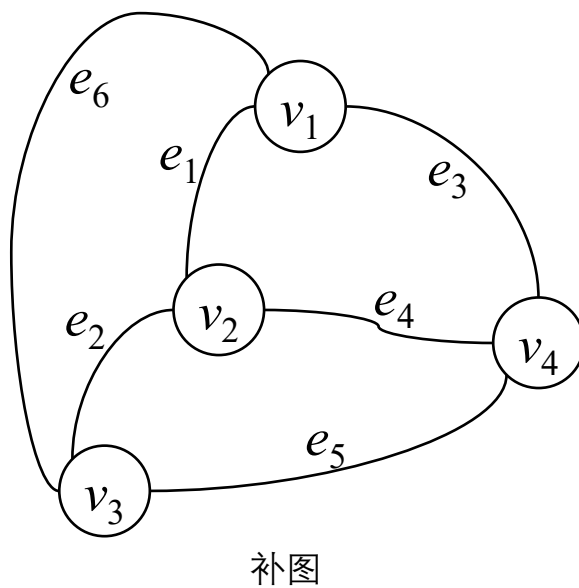
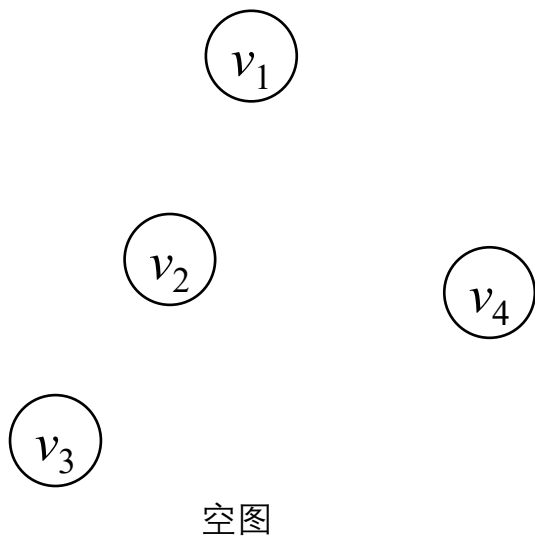
- 空图、完全图、正则图的补图分别是什么？
 - 空图的补图：



思考题1.20

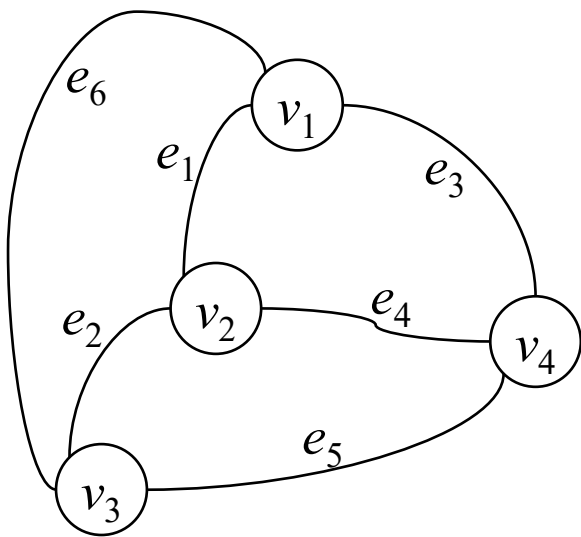
■ 空图、完全图、正则图的补图分别是什么？

- 空图的补图：完全图



思考题1.20

- 空图、完全图、正则图的补图分别是什么？
 - 空图的补图：完全图
 - 完全图的补图：

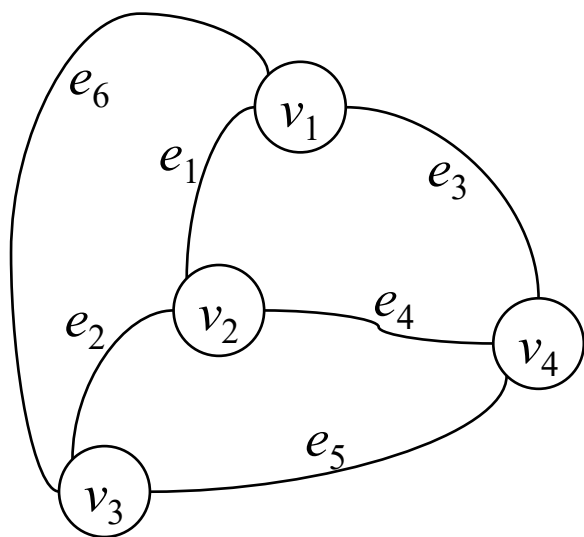


完全图

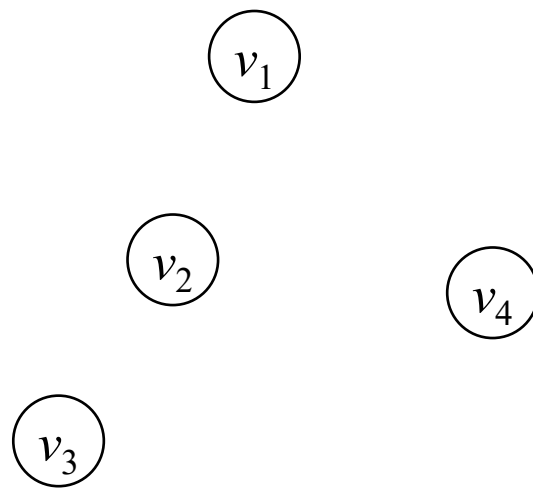


思考题1.20

- 空图、完全图、正则图的补图分别是什么？
 - 空图的补图：完全图
 - 完全图的补图：空图



完全图

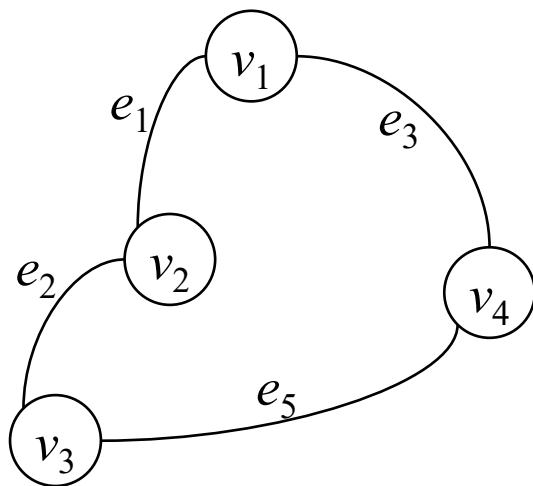


补图



思考题1.20

- 空图、完全图、正则图的补图分别是什么？
 - 空图的补图：完全图
 - 完全图的补图：空图
 - 正则图的补图：

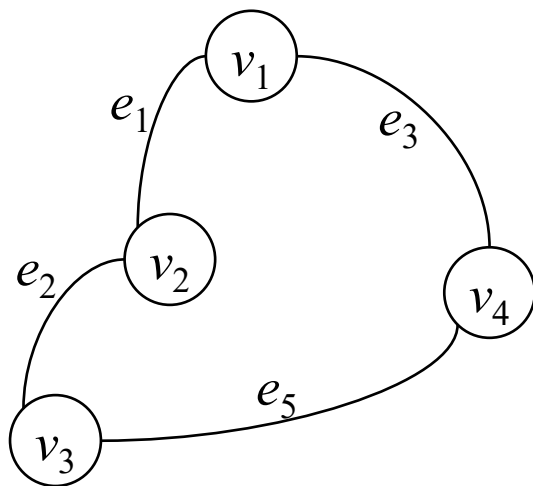


正则图

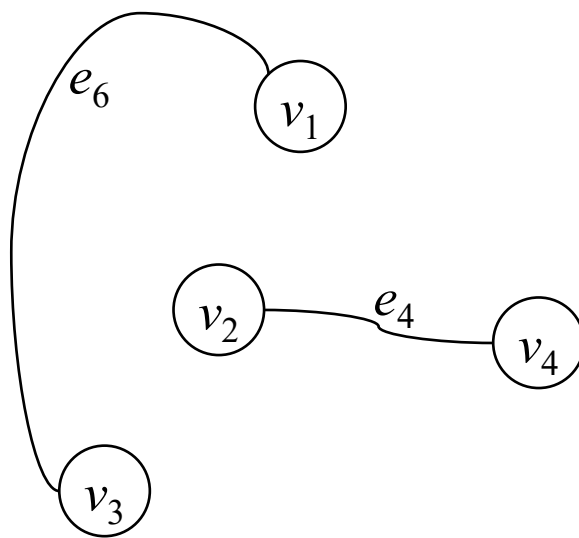


思考题1.20

- 空图、完全图、正则图的补图分别是什么？
 - 空图的补图：完全图
 - 完全图的补图：空图
 - 正则图的补图：正则图



正则图

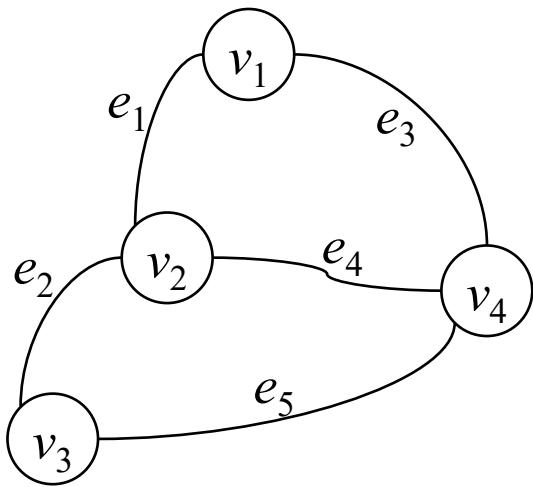


补图

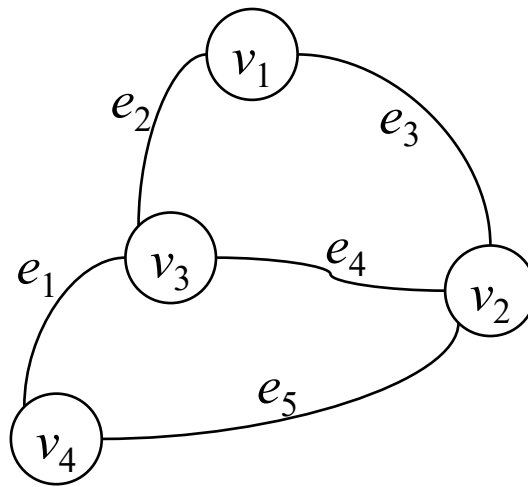


思考题1.21

- 若图 G 和 H 同构，则图 \bar{G} 和 \bar{H} 也同构吗？



图G

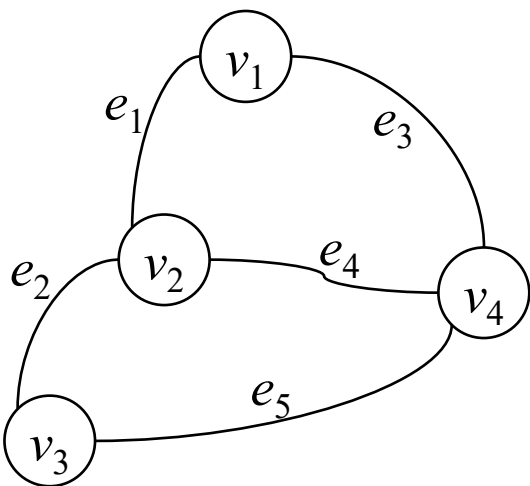


图H

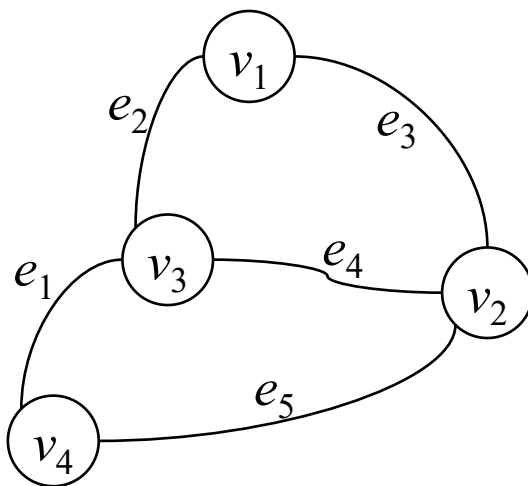


思考题1.21

- 若图 G 和 H 同构，则图 \bar{G} 和 \bar{H} 也同构吗？
 - 同构



图G



图H



思考题1.22

- 图 G 和 $\overline{\overline{G}}$ 有什么关系?

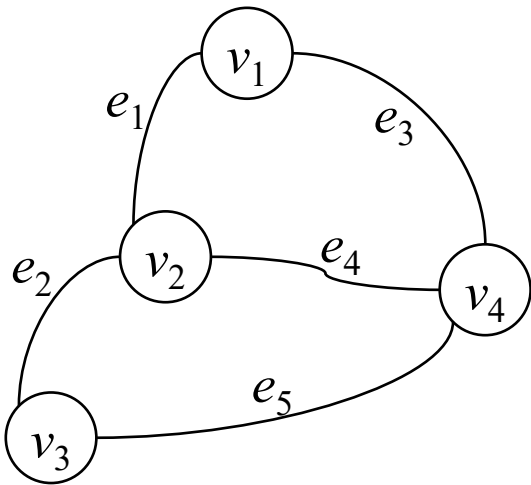


图 G

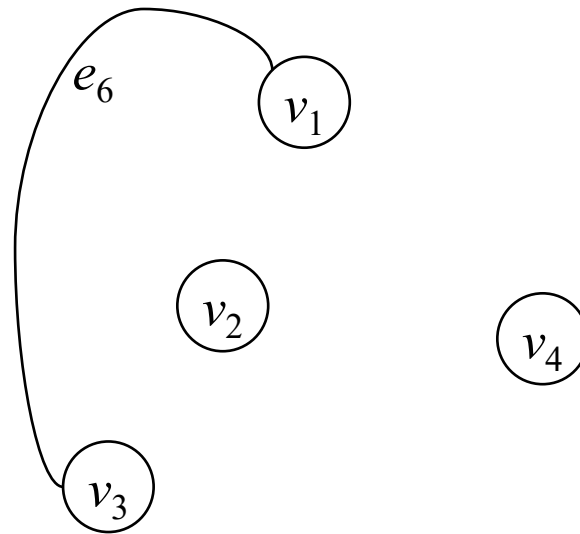


图 $\overline{\overline{G}}$



思考题1.22

- 图 G 和 $\overline{\overline{G}}$ 有什么关系?
 - 相同

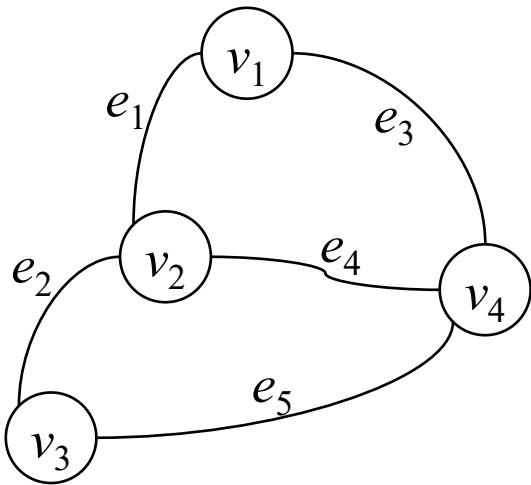


图 G

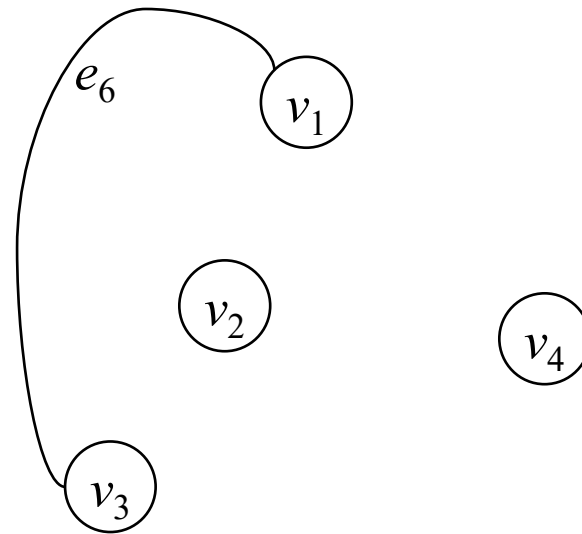


图 \overline{G}



思考题1.23

- 图 G 和 \bar{G} 的阶、边数、度序列、邻接矩阵分别有什么关系？

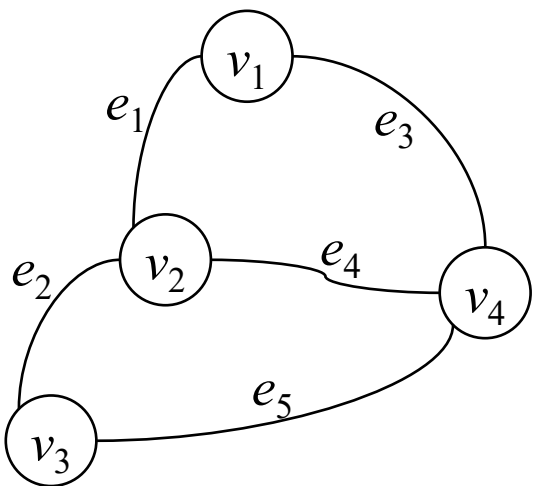


图 G

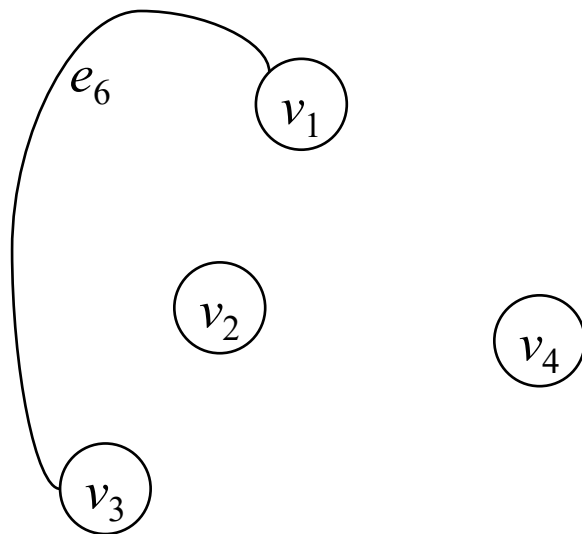


图 \bar{G}



思考题1.23

- 图 G 和 \bar{G} 的阶、边数、度序列、邻接矩阵分别有什么关系？
 - 阶相等

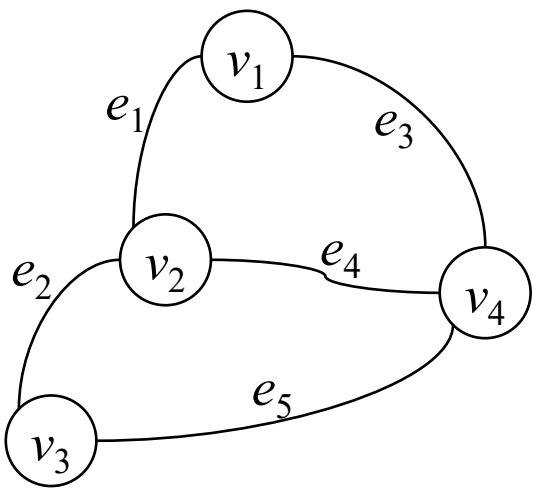


图 G

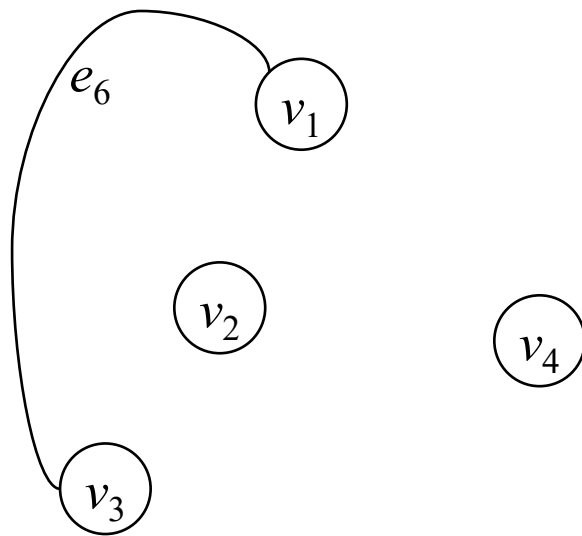
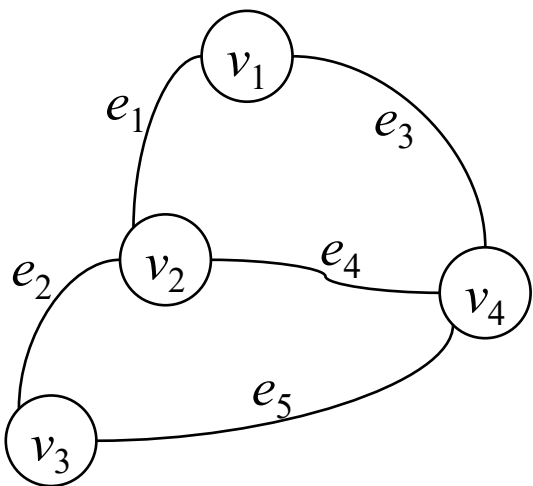


图 \bar{G}



思考题1.23

- 图 G 和 \bar{G} 的阶、边数、度序列、邻接矩阵分别有什么关系？
 - 阶相等
 - 边数的和为 $\binom{v(G)}{2}$



图G

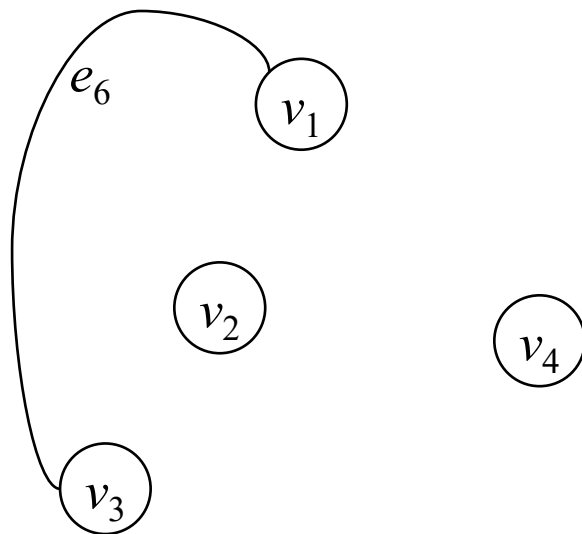


图 \bar{G}



思考题1.23

- 图 G 和 \bar{G} 的阶、边数、度序列、邻接矩阵分别有什么关系？
 - 阶相等
 - 边数的和为 $\binom{v(G)}{2}$
 - 图 G 的度序列和图 \bar{G} 的度序列的逆序列的对应位置的和都为 $v(G) - 1$
 - 3, 3, 2, 2
 - 0, 0, 1, 1

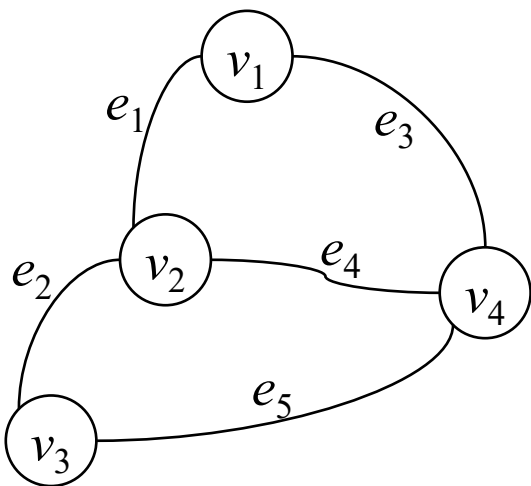


图 G

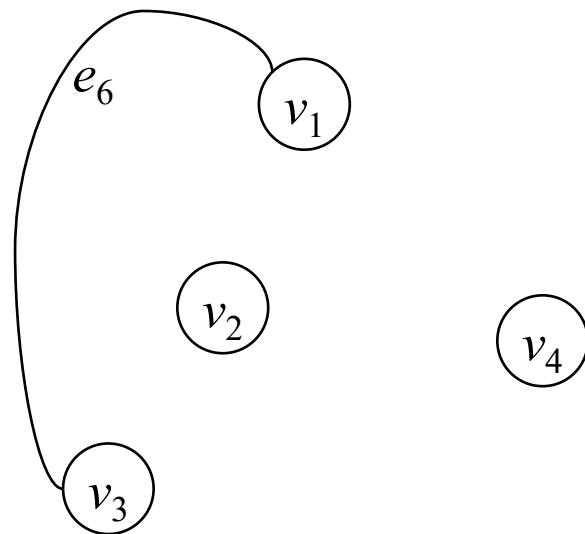
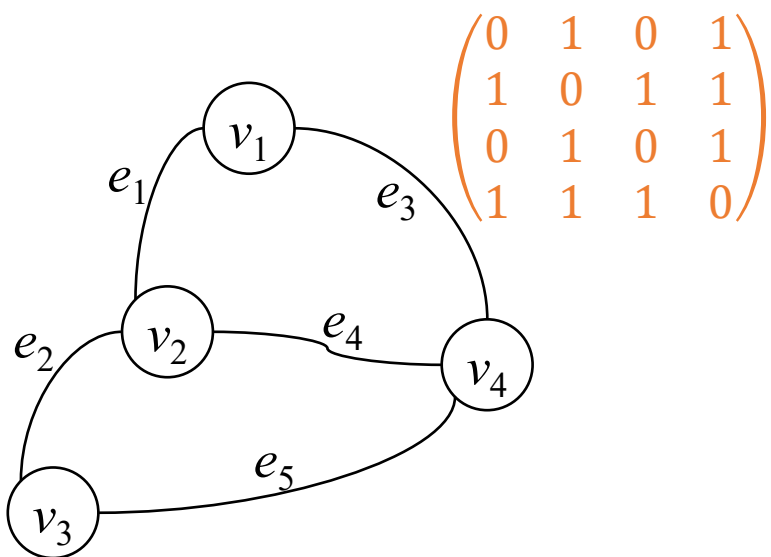


图 \bar{G}



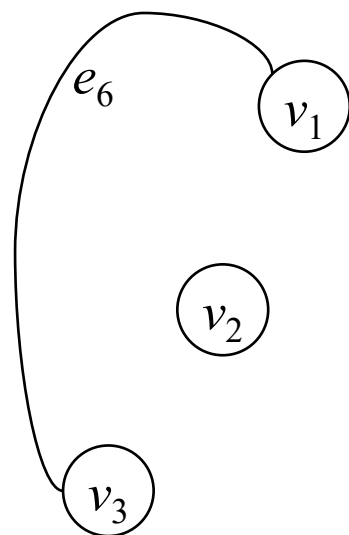
思考题1.23

- 图 G 和 \bar{G} 的阶、边数、度序列、邻接矩阵分别有什么关系？
 - 阶相等
 - 边数的和为 $\binom{v(G)}{2}$
 - 图 G 的度序列和图 \bar{G} 的度序列的逆序列的对应位置的和都为 $v(G) - 1$
 - 邻接矩阵的和的主对角线元素全为0、其余元素全为1



$$\begin{pmatrix} 0 & 1 & 0 & 1 \\ 1 & 0 & 1 & 1 \\ 0 & 1 & 0 & 1 \\ 1 & 1 & 1 & 0 \end{pmatrix}$$

图 G



$$\begin{pmatrix} 0 & 0 & 1 & 0 \\ 0 & 0 & 0 & 0 \\ 1 & 0 & 0 & 0 \\ 0 & 0 & 0 & 0 \end{pmatrix}$$

图 \bar{G}



自补图

- 若图 G 和 \bar{G} 同构, 则称 G 是**自补图**

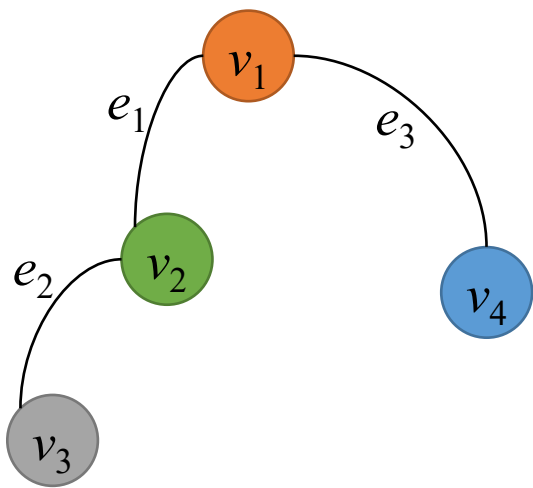


图 G

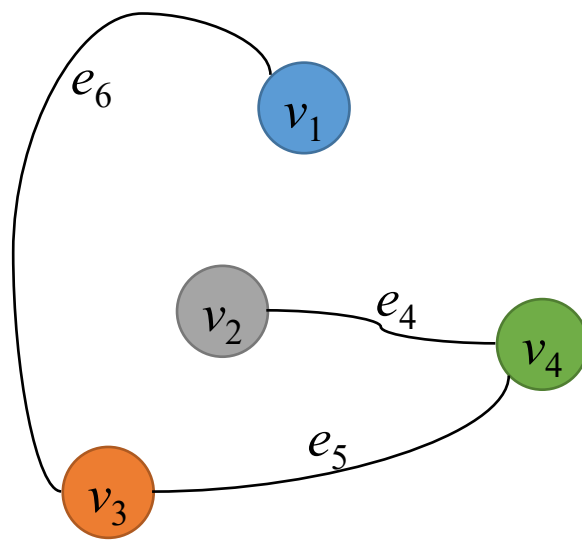


图 \bar{G}



思考题1.24

- 自补图的阶、边数、度序列、邻接矩阵分别有什么特征？

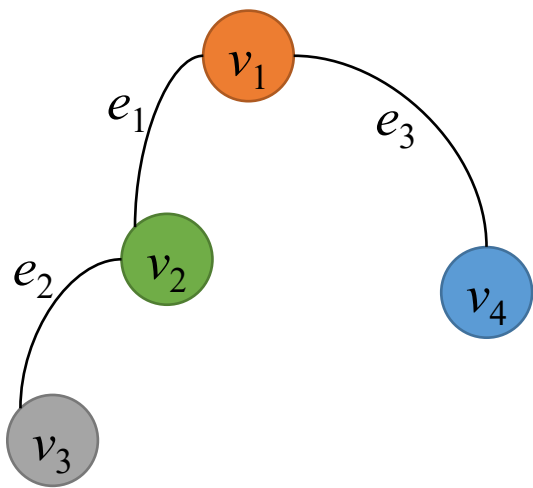


图 G

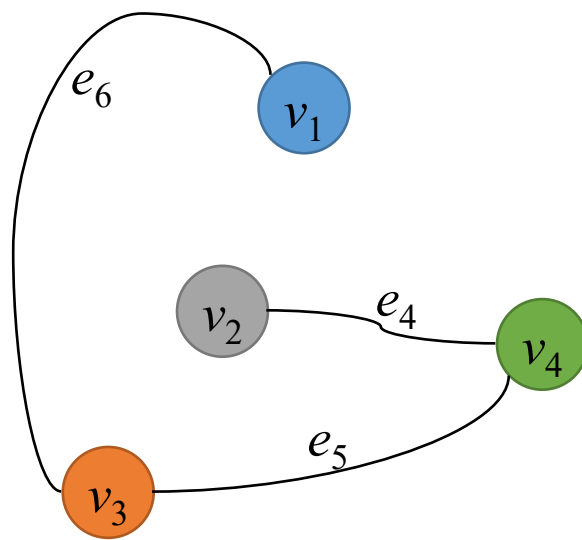


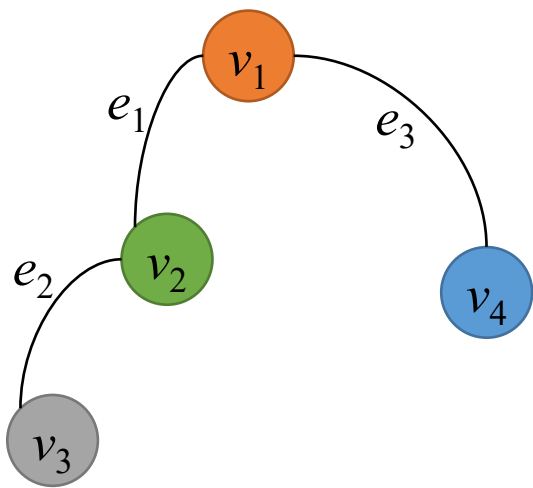
图 \bar{G}



思考题1.24

- 自补图的阶、边数、度序列、邻接矩阵分别有什么特征？

- 边数为 $\frac{\binom{v(G)}{2}}{2} = \frac{v(G)(v(G)-1)}{4}$



图G

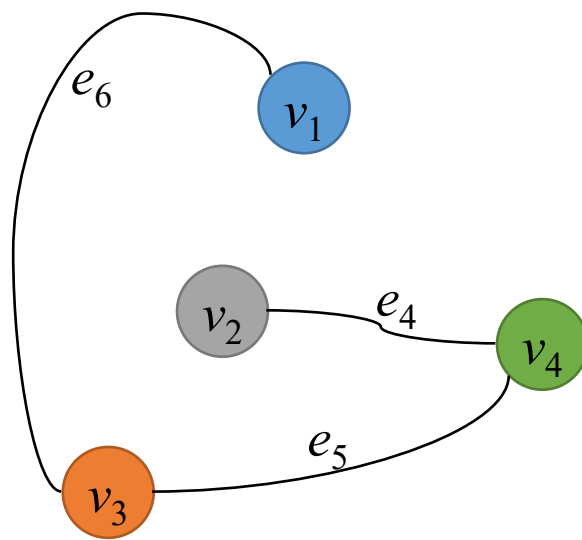


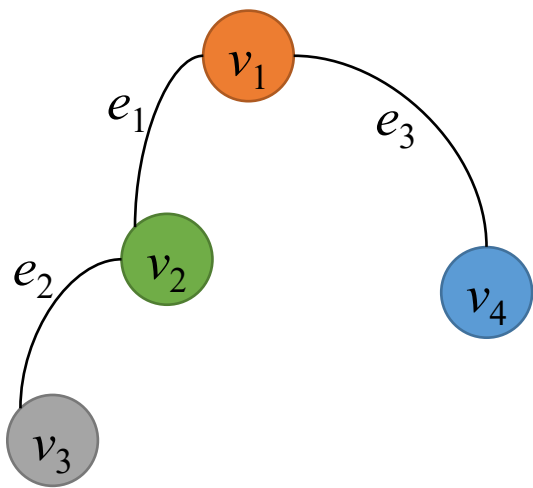
图 \bar{G}



思考题1.24

■ 自补图的阶、边数、度序列、邻接矩阵分别有什么特征？

- 边数为 $\frac{\binom{v(G)}{2}}{2} = \frac{v(G)(v(G)-1)}{4}$
- 阶除4余0或1



图G

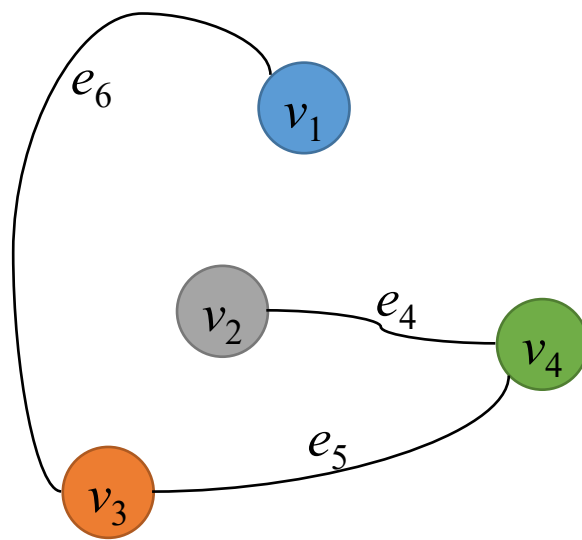


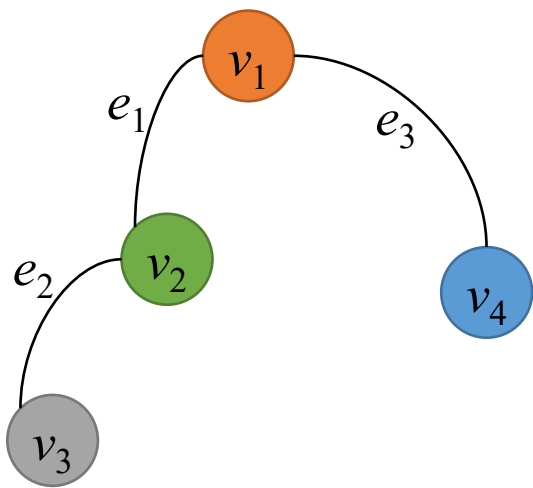
图 \bar{G}



思考题1.24

■ 自补图的阶、边数、度序列、邻接矩阵分别有什么特征？

- 边数为 $\frac{\binom{v(G)}{2}}{2} = \frac{v(G)(v(G)-1)}{4}$
- 阶除4余0或1
- 度序列和其逆序列的对应位置的和都为 $v(G) - 1$
 - 2, 2, 1, 1



图G

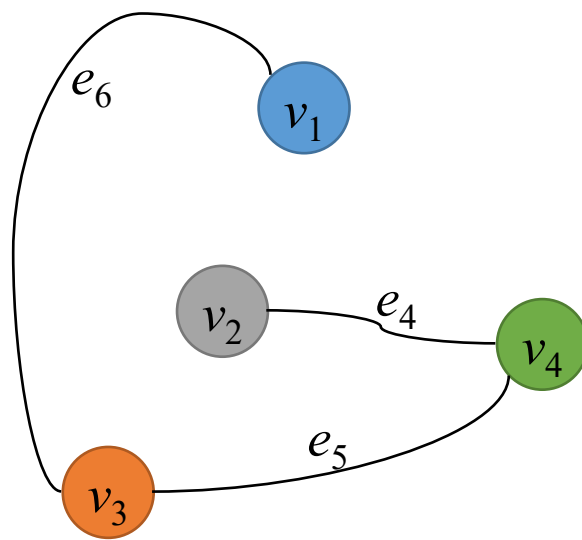


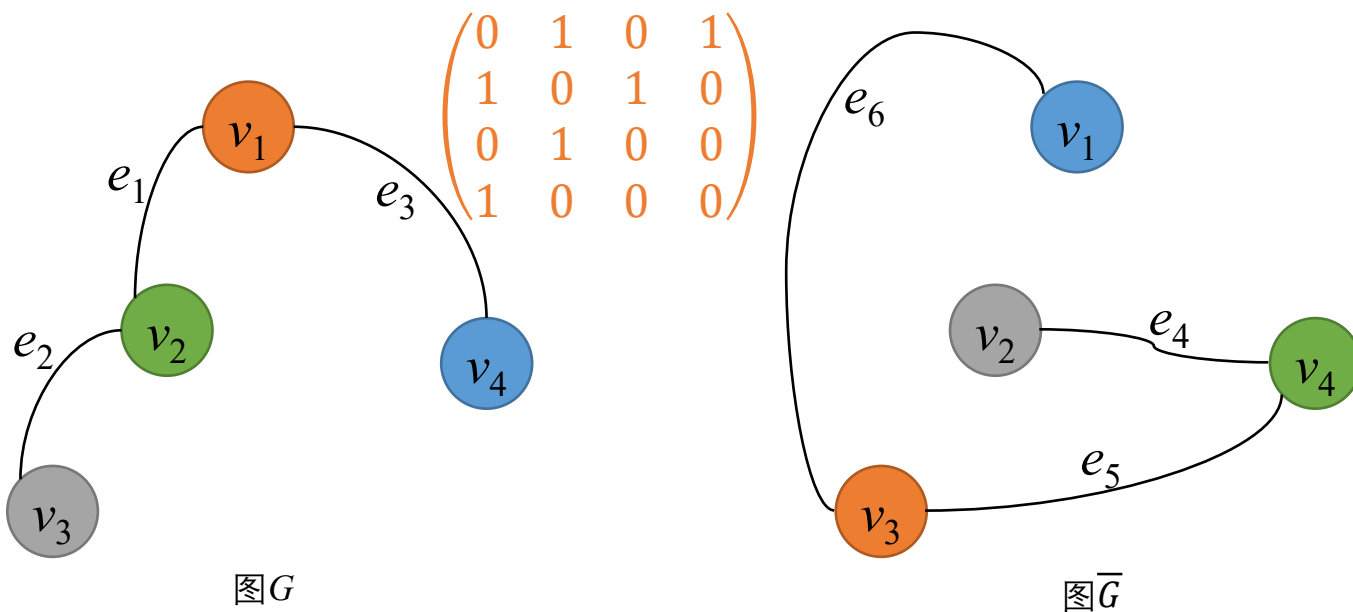
图 \bar{G}



思考题1.24

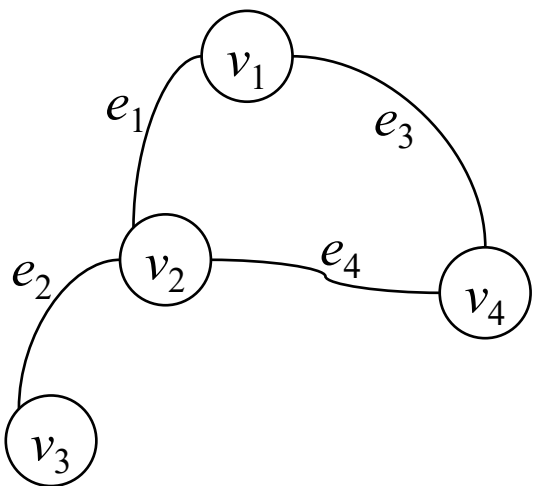
■ 自补图的阶、边数、度序列、邻接矩阵分别有什么特征？

- 边数为 $\frac{\binom{v(G)}{2}}{2} = \frac{v(G)(v(G)-1)}{4}$
- 阶除4余0或1
- 度序列和其逆序列的对应位置的和都为 $v(G) - 1$
- 邻接矩阵的主对角线元素全为0、非主对角线元素恰有一半为1

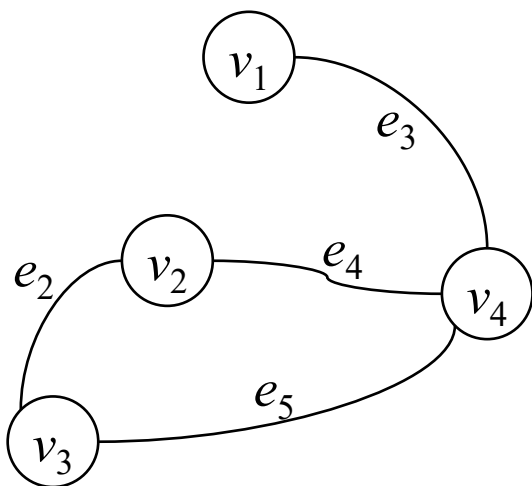


交、并、不交并、联

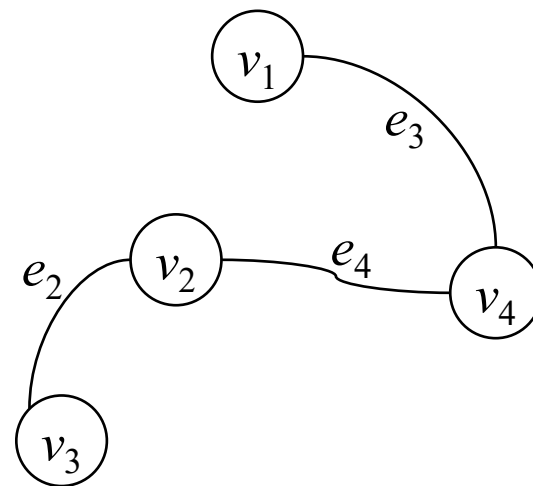
- 图 $G = \langle V_G, E_G \rangle$ 和 $H = \langle V_H, E_H \rangle$, 它们的交是以集合 $V_G \cap V_H$ 为顶点集、集合 $E_G \cap E_H$ 为边集的图, 记作 $G \cap H$



图G



图H

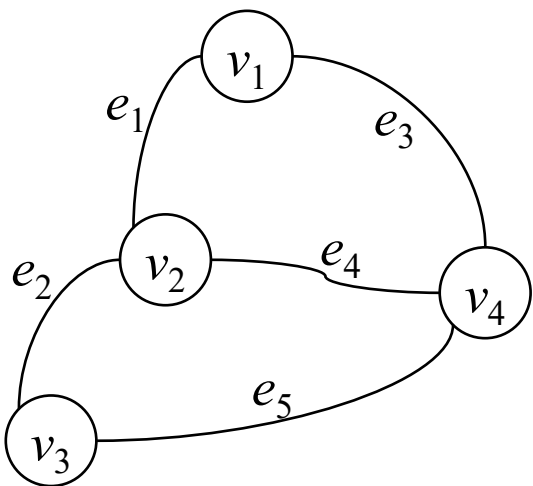


$G \cap H$

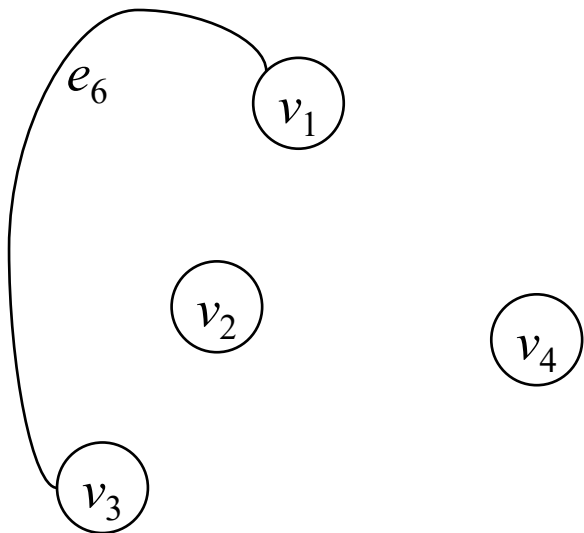


交、并、不交并、联

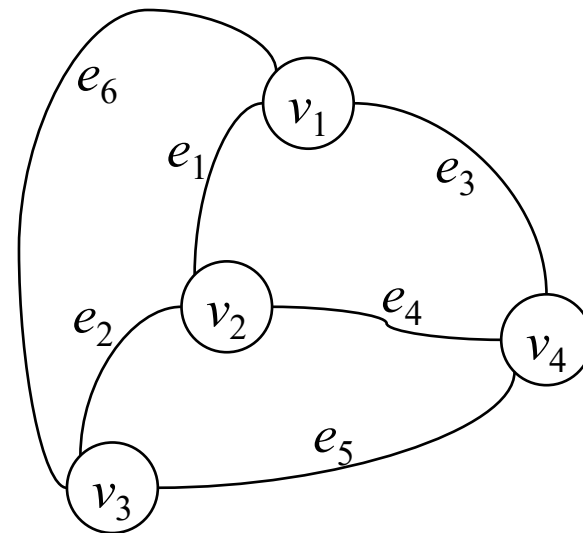
- 图 $G = \langle V_G, E_G \rangle$ 和 $H = \langle V_H, E_H \rangle$ ，它们的交是以集合 $V_G \cap V_H$ 为顶点集、集合 $E_G \cap E_H$ 为边集的图，记作 $G \cap H$
- 它们的并是以集合 $V_G \cup V_H$ 为顶点集、集合 $E_G \cup E_H$ 为边集的图，记作 $G \cup H$



图G



图H



$G \cup H$



交、并、不交并、联

- 图 $G = \langle V_G, E_G \rangle$ 和 $H = \langle V_H, E_H \rangle$ ，它们的交是以集合 $V_G \cap V_H$ 为顶点集、集合 $E_G \cap E_H$ 为边集的图，记作 $G \cap H$
- 它们的并是以集合 $V_G \cup V_H$ 为顶点集、集合 $E_G \cup E_H$ 为边集的图，记作 $G \cup H$
- 若 $V_G \cap V_H = \emptyset$ ，则 $G \cup H$ 称作**不交并**（和），记作 $G + H$




图 G

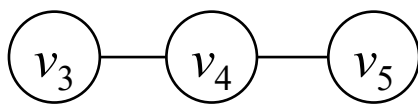


图 H




$G + H$

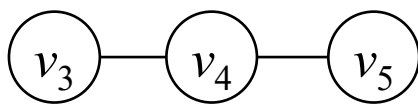


交、并、不交并、联

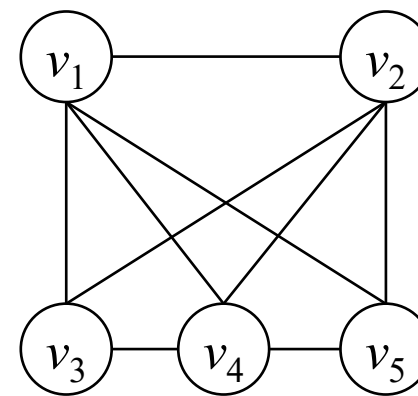
- 图 $G = \langle V_G, E_G \rangle$ 和 $H = \langle V_H, E_H \rangle$ ，它们的交是以集合 $V_G \cap V_H$ 为顶点集、集合 $E_G \cap E_H$ 为边集的图，记作 $G \cap H$
- 它们的并是以集合 $V_G \cup V_H$ 为顶点集、集合 $E_G \cup E_H$ 为边集的图，记作 $G \cup H$
- 若 $V_G \cap V_H = \emptyset$ ，则 $G \cup H$ 称作不交并（和），记作 $G + H$
- 简单图 $G = \langle V_G, E_G \rangle$ 和 $H = \langle V_H, E_H \rangle$ 的**联**是向图 $G + H$ 中增加边的集合 $\{(u, v) \mid u \in V_G, v \in V_H\}$ 得到的简单图，记作 $G \vee H$



图G



图H



$G \vee H$



思考题1.25

- 图 G 、 H 、 $G \cap H$ 、 $G + H$ 、 $G \vee H$ 中，哪些具有子图关系？



思考题1.25

- 图 G 、 H 、 $G \cap H$ 、 $G + H$ 、 $G \vee H$ 中，哪些具有子图关系？
 - $G \cap H \subseteq G, H \subseteq G + H \subseteq G \vee H$



请认真完成课后练习

